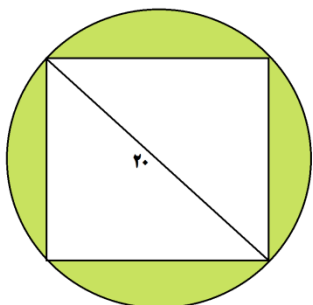
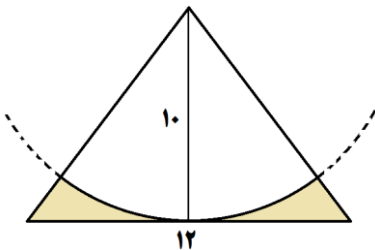
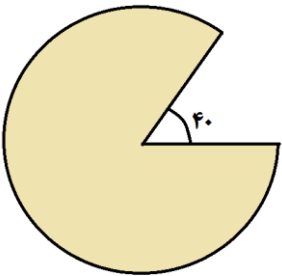
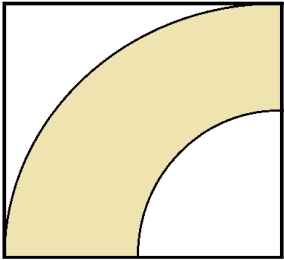
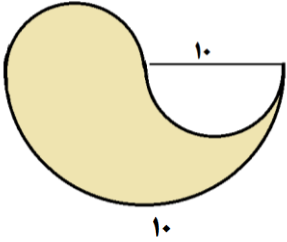
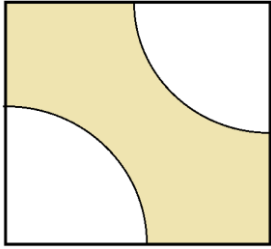
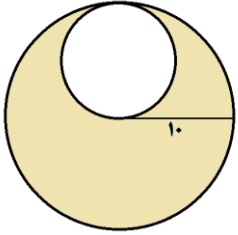




۱- مساحت بخش رنگ شده را بدست بیاورید .



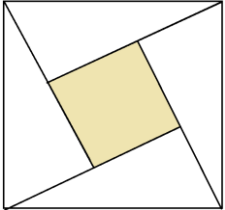
۲- می خواهیم دور تا دور یک سطل فلزی را با کاغذ بپوشانیم ،

مساحت کاغذ مورد استفاده چقدر خواهد بود ؟

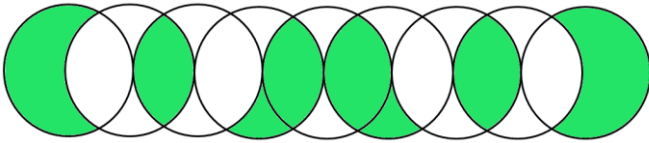


۳- در شکل مقابل مساحت مربع بزرگ چند برابر مربع کوچک است ؟

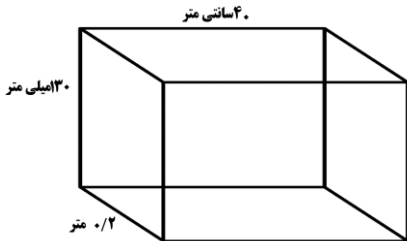
(هر ضلع مربع کوچک را به اندازه خودش امتداد داده ایم .)



۴- در شکل مقابل مساحت قسمت رنگی چند برابر مساحت یک دایره کامل است ؟

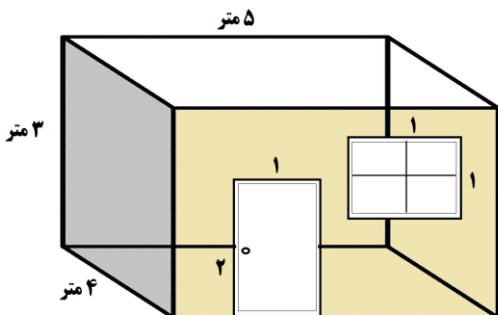


۵- مساحت مکعب زیر را بر حسب سانتی متر بدست آورید :



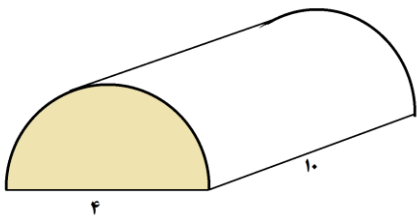
۶- می خواهیم دیوار اتاقی را که یک پنجره و یک درب همانند شکل دارد ، کاغذ دیواری بزنیم.

چند متر مربع کاغذ دیواری نیاز داریم ؟

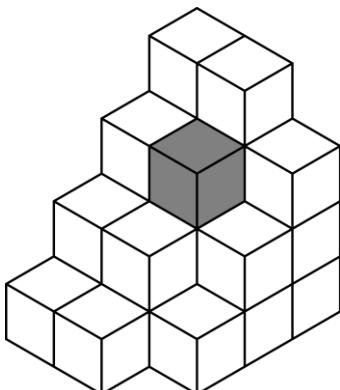


۷- می خواهیم بالا و اطراف یک گلخانه را با نایلون بپوشانیم ، مجموعاً

چند متر مربع نایلون نیاز است ؟



۸- در شکل مقابل چه تعداد مکعب وجود دارد ؟ (مکعب های زیر که مشاهده نمی شوند را محاسبه کنید.)



۹- در شکل مقابل اگر ضلع هر مکعب ۱ سانتی متر باشد ، مساحت کل شکل چند سانتی متر مکعب است؟