

این فایل از کانال معلم یار چهارم دانلود شده است.
برای حمایت از ما و دریافت نمونه سوالات یا پاسخنامه بیشتر
در تلگرام آی دی زیر را جست و جو کنید

معلم یار چهارم

نمونه سوال با پاسخنامه

درستنامه

فیلم های آموزشی

فیلم حل تعارین کتاب درسی

گام به گام

جزوه

برای دریافت مطالب کافی عضو کانال معلم یار چهارم

به آدرس: ▼▼

► @MoallemYariR4

بشید

ورود به کانال اصلی لمس کنید

در صورت قطع کله اینترنت کشور!

دوباره برمیگردم به سایت معلم یار و مطالب جدید و پایه به پایه تو سایت میفرستم



WwW.MoallemYar.iR



WwW.6Paye.iR



به نام خدا

دبستان زینب کبری (س)

پایه چهارم ابتدایی

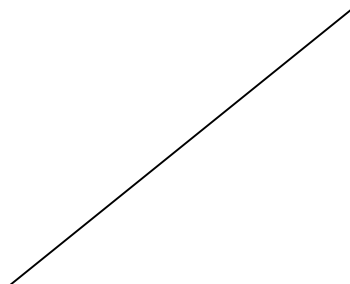
آزمون ریاضی

سال تحصیلی ۹۴-۹۵

فصل ششم

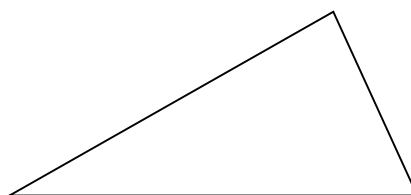
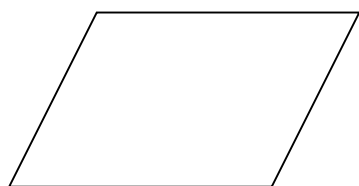
نام و نام خانوادگی:

۱- با استفاده از گونیا دو خط عمود بر خط مقابل بکشید.

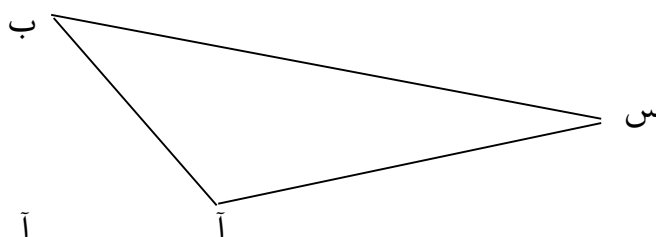
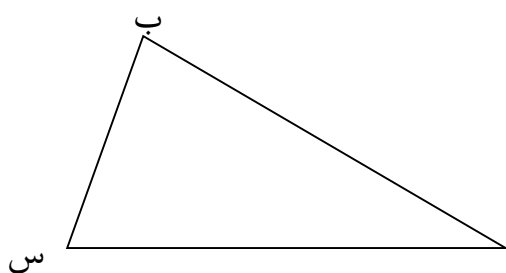


۲- دوزنقه را تعریف کنید.

۳- با استفاده از نقاله، اندازه ی زاویه های شکل های زیر را پیدا کنید.

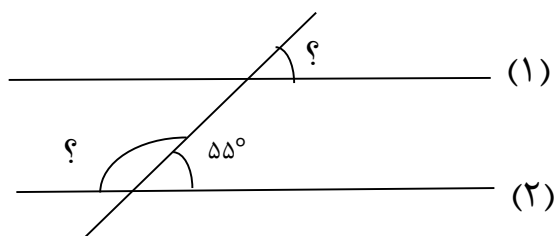


۴- در مثلث های زیر با استفاده از گونیا ارتفاع نظیر راس (س) را رسم کنید.

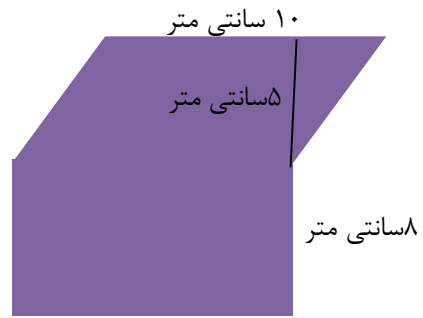
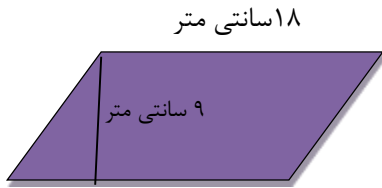


۵- در شکل رو به رو خط ها (۱) و (۲) موازی هستند. اندازه زاویه هایی را که با علامت سوال مشخص شده

اند پیدا کنید و توضیح دهید چگونه به جواب رسیده اید.



۶) مساحت شکل های زیر را پیدا کنید.



۷) اتاق مهبری ۵ متر طول و ۳ متر عرض دارد. این اتاق چقدر موکت احتیاج دارد؟