

۵- پاسخ سؤالات زیر را با مشورت دوستانتان پیدا کنید.

عدد ۱۲۳ به ۱۲۰ نزدیکتر است یا به ۱۳۰؟

عدد ۲۷۸ به ۲۷۰ نزدیکتر است یا به ۲۸۰؟

عدد ۳۵۳ به ۳۵۰ نزدیکتر است یا به ۳۶۰؟

عدد ۴۳۱ به ۴۳۰ نزدیکتر است یا به ۴۴۰؟

صفحه ۷۹ کتاب درسی

★★★★★

خلاق باش



با سکه‌های ۱۰۰ ریالی و ۵۰ ریالی به چند روش می‌توانید ۳۰۰ ریال درست کنید؟ به نمونه‌ها توجه کنید.

۴ روش




$$100 + 100 + 100 = 300$$


$$100 + 100 + 50 + 50 = 300$$

$$100 + 50 + 50 + 50 + 50 = 300$$

$$50 + 50 + 50 + 50 + 50 + 50 = 300$$



## مرور فصل



فروتنک نوشتن



توضیح دهید که عددها در الگوی عددی زیر چگونه ادامه می‌کنند و شما عدد بعدی را چگونه

می‌نویسید؟

۱۰۰-۲۰۰-۳۰۰-۴۰۰-۵۰۰-۶۰۰-۷۰۰-۸۰۰-۹۰۰

صد تا صد تا زیاد می‌شوند.


صفحه ۷۰ کتاب درسی

تمرین



۱- مقدار پول را در هر قسمت به دست آورید.





۶۵۰ ریال




۴۶۰ ریال


۲- هر چرتکه چه عددی را نشان می‌دهد؟



۳۵۲



۵۳۴



۳۲۰

۳- با ۳ کارت رقم ۲ و ۵ و ۷ تمام عددهای ۳ رقمی را بنویسید.

۲۵۷ - ۲۷۵ - ۵۲۷ - ۵۷۲ - ۷۲۵ - ۷۵۲

۴- با سه رقم ۲ و ۷ و ۴ عدد سه رقمی بنویسید که رقم یکان آن از همه کم‌تر باشد. این مسئله چند جواب دارد؟

۴۷۲ - ۷۴۲


۲ جواب

۵- با سه رقم ۰، ۳ و ۶ عدد سه رقمی بنویسید که رقم یکانش ۶ باشد.  
۳۰۶

۶- زهرا ۹۵ امتیاز داشت. وقتی تکالیف ریاضی خود را به آموزگار نشان داد، ۸ امتیاز دیگر گرفت. حالا او چند امتیاز دارد؟

$$\begin{array}{r} 95 \\ + 8 \\ \hline 103 \end{array}$$

۷- عدد داخل مربع به کدام عدد نزدیک‌تر است؟ دایره‌ی مربوط به آن را رنگ کنید. ابتدا در دایره‌های خالی عدد مناسب بنویسید.



۸- هر عدد را مانند نمونه‌ی باز شده بنویسید.

= ۲۰۰ + ۳۰ + ۱

= ۴۰۰ + ۷۰ + ۱

= ۵۰۰ + ۹۰ + ۳


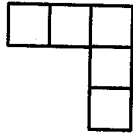
= ۷۰۰ + ۸۰

= ۲۰۰ + ۵

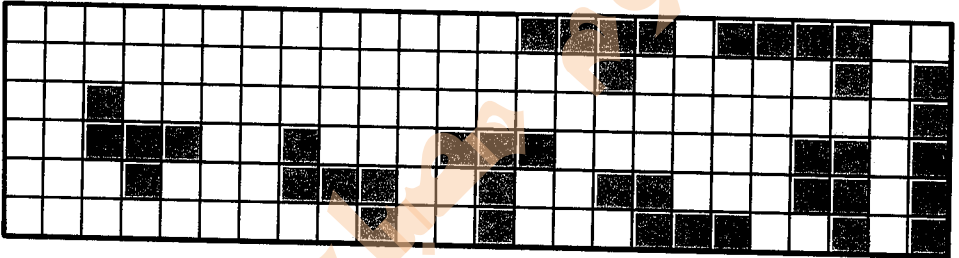
= ۷۰۰ + ۹



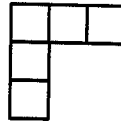
همه‌ی قطعات زیر از ۵ تا مربع مساوی درست شده‌اند.



در مجموع ۱۲ قطعه‌ی مختلف می‌توان رسم کرد که هر قطعه با ۵ مربع مساوی درست شده باشد. ۸ قطعه‌ی دیگر را شما رسم کنید. می‌توانید برای راحتی کار از رنگ کردن مربع‌های صفحه‌ی شطرنجی زیر استفاده کنید. هر قطعه را با یک رنگ مشخص کنید. شکل‌های خود را با دوستانتان مقایسه کنید. آیا تمام ۱۲ قطعه را پیدا کرده‌اید؟



همان قطعه بالایی است. فقط چرخیده است.



توجه داشته باشید که این قطعه

این ۱۲ قطعه روی هم چند مربع دارند؟ ۶۰ مربع