

نظر معلم:

آزمون ریاضی، پایه ی اول، دبستان

نام و نام خانوادگی: .....

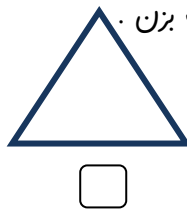
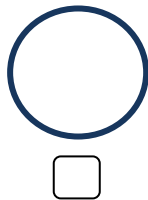
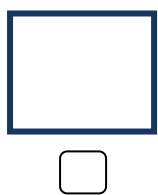
۱ - برای جمع روبه رو چوب خط بکش و جواب را بنویس. برای کشیدن چوب خط از دو مداد رنگی استفاده

$$6 + 7 =$$

کن.

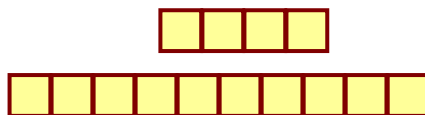




.....



۲ - کدام شکل خط تقارن زیادی دارد؟ علامت بزن.

۳ - با عدد و چوب خط نشان بده



۴ - هر شکل را به عددش وصل کن.



۱۴

۱۵

۱۲



۵ - عددی بنویس که یکی ها و ده تایی های آن مثل هم باشند.

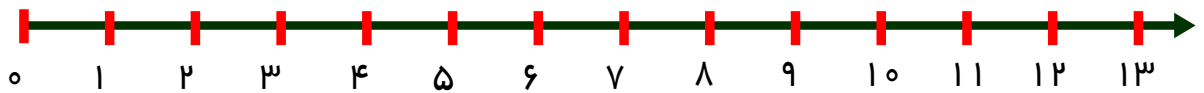
۶ - از علامت کمتر، بیشتر یا مساوی استفاده کن و یا عدد مناسب بنویس.

Four boxes, each containing a cartoon duck character above a mathematical symbol or equation:

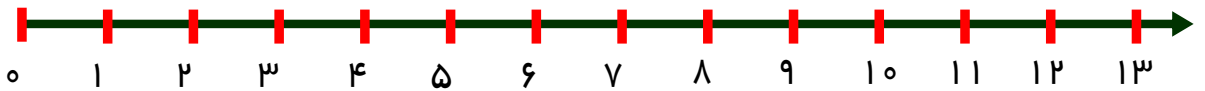
- Box 1:  $>$
- Box 2:  $5 + 10 = 15$
- Box 3:  $11 \quad 14$
- Box 4:  $12 \quad 12$

۷ - جمع و تفریق را روی محور نشان بده.


$3 + 7 = \dots\dots\dots$



$12 - 7 = \dots\dots\dots$



۸ - برای شکل روبه رو تفریق بنویس.



$\dots\dots\dots - \dots\dots\dots = \dots\dots\dots$

خسته نباشید

