





۱- با توجه به شکل، جدول را کامل کن و در جای خالی عدد مناسب بنویس

	<table border="1"><tr><td>د</td><td>ی</td></tr></table>	د	ی	به عدد به حروف	
د	ی				
	<table border="1"><tr><td>د</td><td>ی</td></tr></table>	د	ی	به عدد به حروف	
د	ی				
	<table border="1"><tr><td>د</td><td>ی</td></tr></table>	د	ی	به عدد به حروف	
د	ی				
	<table border="1"><tr><td>ص</td><td>د</td><td>ی</td></tr></table>	ص	د	ی	به عدد به حروف
ص	د	ی			

۲- نوشتن عدد های زیر را ادامه بده

۹۰-۹۱-۹۲.....

۱۰-۲۰-۳۰.....

۳- به سؤال های زیر پاسخ بده







عدد ۱۰۰ چند رقم دارد؟

رقم های آن را بنویس؟

یک دسته ۱۰۰ تایی چند تا ۱۰ تایی دارد؟

چند یکی دارد؟

۴- در هر قسمت چند ریال پول داریم؟

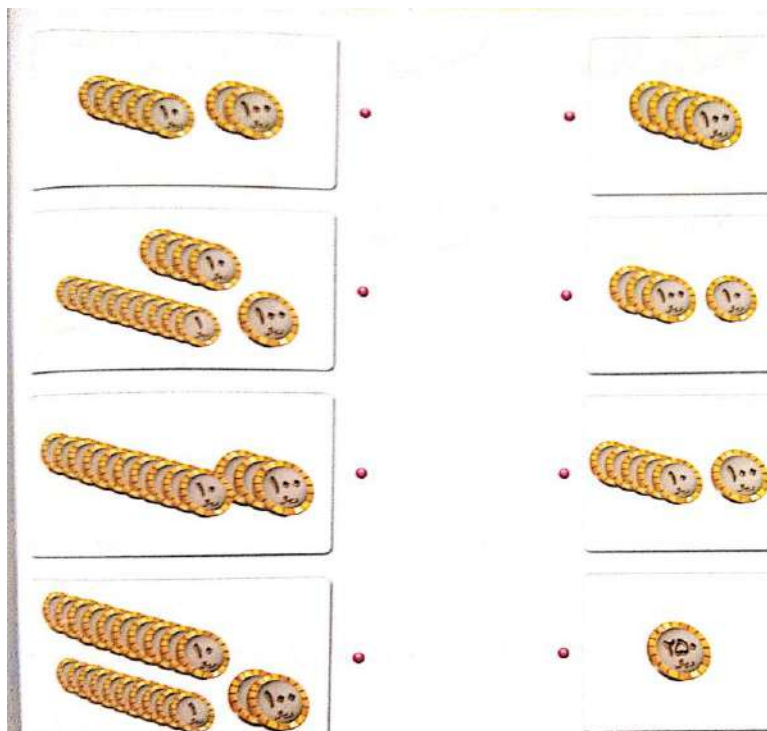
۵ مسئله های زیر را حل کن

۱- من دو سکه ۱۰ ریالی دارم، خواهرم سه تا و پدرم پنج تا سکه ۱۰ ریالی دارد ما با هم چند سکه ۱۰ ریالی داریم؟

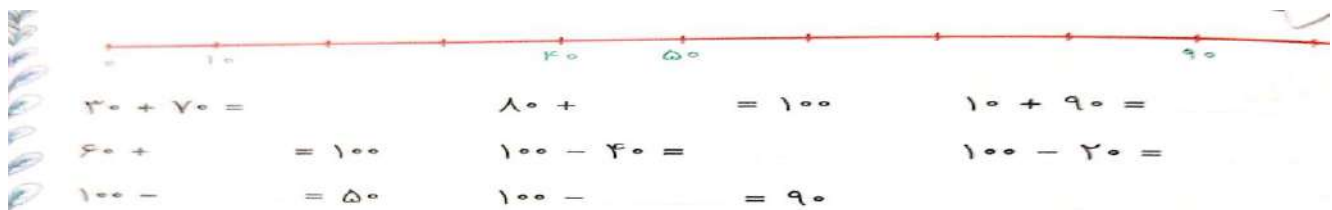
۲- با ۵۰ سکه ۱۰ ریالی چند سکه ۱۰۰ ریالی می توانیم از بانک بگیریم؟

۳- یک سکه ۱۰۰ ریالی چند تا سکه ۱۰ ریالی هست؟ چند تا ۱ ریالی؟









۶- ارزش کدام دسته از سکه های سمت چپ با سکه های سمت راست برابر است؟











۷- با کامل کردن محور جمع و تفریق هارا انجام بده.



۸- بخوان و کامل کن

	← ۲۰ دقیقه بعد	
	← یک ساعت و ۱۵ دقیقه بعد	
	← ۴۵ دقیقه بعد	
	← ۳۰ دقیقه قبل	

۹- عددی را که هر شکل نشان می دهد در جدول قرار بده و با رقم و حروف بنویس

	یکان دهگان صدگان	به عدد به حروف
	یکان دهگان صدگان	به عدد به حروف
	یکان دهگان صدگان	به عدد به حروف
	یکان دهگان صدگان	به عدد به حروف
	یکان دهگان صدگان	به عدد به حروف
	یکان دهگان صدگان	به عدد به حروف
	یکان دهگان صدگان	به عدد به حروف
	یکان دهگان صدگان	به عدد به حروف


۱۴- الگو عددی را ادامه بده.

۲۰-۲۲-۲۵-.....-.....-.....

۳۰-۳۵-۴۱-.....-.....-.....

۱۰-۱۲-۱۵-.....-.....-.....

۱۵- مانند نمونه، برای هر عدد شکل بکش و جدول کامل کن



س	د	ی
۴۲۷		

چهارصد و بیست و هفت

س	د	ی
۵۳۰		

س	د	ی
۱۹۹		

س	د	ی
۳۷۶		

س	د	ی
۴۲۷		

س	د	ی
۲۷۳		

۱۶- با کشیدن شکل ساده جواب مسئله هارا پیدا کن

زهرا سه سکه ۱۰۰ ریالی و پنج سکه ۱۰ ریالی و ۶ سکه ۱ ریالی دارد. زهرا چند ریال دارد؟

در مدرسه ی حاج رضا صادقی ۱۰۰ دانش آموز در کلاس اول، ۲۰۰ دانش آموز در کلاس دوم، و ۴۰۰ دانش آموز در سایر کلاس ها درس می خوانند. این مدرسه چند دانش آموز دارد؟

.....۳۰۰.....

۱۵- قیل و بعد عدد های زیر را بنویسید

.....۹۰۰.....

.....۴۳۶.....

.....۴۴۴.....

۱۶- یک عدد سه رقمی بنویس که یکان آن ۶ و صدگان آن دو تا بیشتر از یکانش باشد.

۱۷- یک عدد سه رقمی بنویس که صدگان آن ۸ و دهگان آن دو تا کمتر و یکان آن چهار تا کمتر از صدگان باشد؟

۱۸- با رقم های ۷ ۸ ۹ یک عدد سه رقمی بنویس که رقم یکان آن بیشتر از رقم دهگان و صدگان باشد؟

۱۹- با رقم های ۲ ۷ ۴ دو عدد سه رقمی بنویس که جمع رقم های یکان و دهگان آن برابر رقم صدگان باشد؟

۲۰- رقم های نوشته شده را بخوان ۴ ۱ ۳





















کم ترین عددی که می توان نوشت؟

بیشترین عددی که می توان نوشت؟









با این سه رقم عددی بنویس که به عدد ۴۰۰ نزدیک باشد؟

با این سه رقم عددی بنویس که به ۳۰۰ نزدیک باشد؟

۲۱- در هر ستون مانند نمونه با حذف رقم یکان یا دهگان و یکان، اعداد را به صورت تقریبی بنویس

		<input type="text" value="۳۲۰"/>			<input type="text" value="۵۰۰"/>
		<input type="text"/>			<input type="text"/>
		<input type="text"/>			<input type="text"/>
		<input type="text"/>			<input type="text"/>
		<input type="text"/>			<input type="text"/>

۲۲- در جای خالی عدد مناسب بنویس و عددی را که به عدد داخل دایره نزدیک تر است علامت بزنی

<input type="text" value="۱۲۰"/>		<input type="text" value="۱۳۰"/>	<input type="text" value="۵۰۰"/>		<input type="text" value="۶۰۰"/>
<input type="text" value="۴۵۰"/>		<input type="text" value="۴۶۰"/>	<input type="text" value="۷۰۰"/>		<input type="text" value="۸۰۰"/>
<input type="text"/>		<input type="text"/>	<input type="text"/>		<input type="text"/>
<input type="text"/>		<input type="text"/>	<input type="text"/>		<input type="text"/>

۲۳- ابتدا تقریب بزن سپس جمع و تفریق کن

$\begin{array}{r} 349 \rightarrow 300 \\ + 225 \rightarrow + 200 \\ \hline \end{array}$	$\begin{array}{r} 526 \rightarrow \quad \\ - 220 \rightarrow + \\ \hline \end{array}$	$\begin{array}{r} 528 \rightarrow \quad \\ + 214 \rightarrow + \\ \hline \end{array}$
$\begin{array}{r} 652 \rightarrow \quad \\ + 249 \rightarrow + \\ \hline \end{array}$	$\begin{array}{r} 726 \rightarrow \quad \\ - 104 \rightarrow - \\ \hline \end{array}$	$\begin{array}{r} 343 \rightarrow \quad \\ - 221 \rightarrow - \\ \hline \end{array}$

۲۴- علی ۲۳۷ ریال و حسین ۴۴۲ ریال پول دارد آن ها روی هم تقریباً چه قدر پول دارند؟

۲۵- جمع و تفریق های زیر را ذهنی انجام بده.

$\begin{array}{r} 96 \\ + 8 \\ \hline \end{array}$	$\begin{array}{r} 106 \\ + 7 \\ \hline \end{array}$	$\begin{array}{r} 97 \\ + 9 \\ \hline \end{array}$	$\begin{array}{r} 120 \\ - 7 \\ \hline \end{array}$	$\begin{array}{r} 105 \\ + 5 \\ \hline \end{array}$
$\begin{array}{r} 76 \\ + 7 \\ \hline \end{array}$	$\begin{array}{r} 64 \\ + 5 \\ \hline \end{array}$	$\begin{array}{r} 99 \\ + 9 \\ \hline \end{array}$	$\begin{array}{r} 108 \\ - 7 \\ \hline \end{array}$	$\begin{array}{r} 115 \\ + 9 \\ \hline \end{array}$

۲۶- باز شده ی هر عدد بنویس

۲۱۵ = + +

۴۵۶ = + +

۷۰۹ = + +

۲۵۰ = + +

۲۷- الگو عددی را ادامه بده

۵۰-۱۰۰-۱۵۰-.....-.....-.....-.....-.....-.....-.....

.....-.....-.....-.....-.....-.....-.....-.....-.....-۸۵-۹۰-۹۵

.....-.....-.....-.....-.....-.....-.....-.....-.....-850-900-950