

باز خورد آموزگار :

ارزیابی ریاضی ، پایه ی اول ، دبستان افشار یک


نام زیبای من :




۱ - الگوی منظم را علامت بزن .



۲ - با کمک خط کش هر شکل را به عدد آن وصل کن .

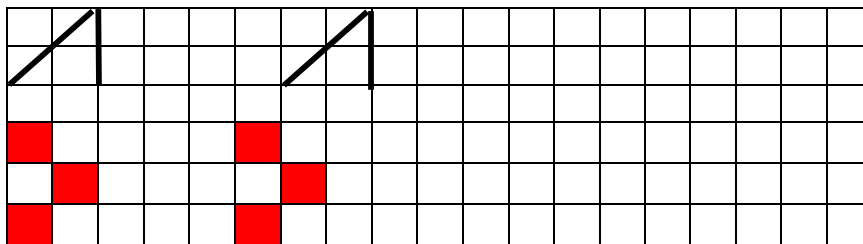


۳ - به اندازه ی انگشت ها از گنجشک ها کم کن و تفریق آن را بنویس .

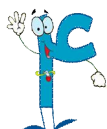
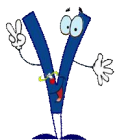


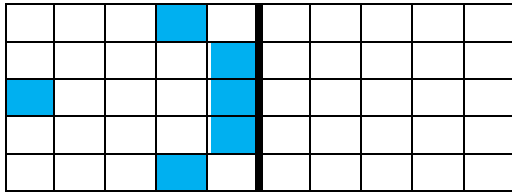
..... - =

۴ - الگوها را ادامه بده .



۵ - از بین اعداد کمترین عدد را داخل مثلث و بیشترین عدد را داخل مربع قرار بده .



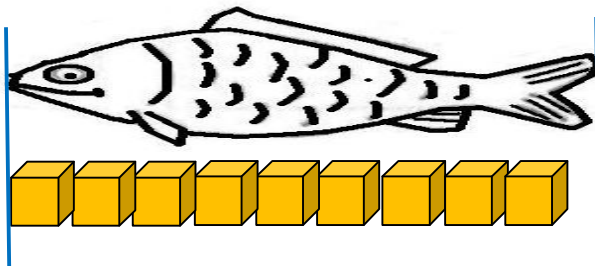


۶ - نیمه ی سمت راست را مانند سمت چپ رنگ بزن .



۷ - برای شکل ها یک جمع بنویس .

$$\dots + \dots = \dots$$



۸ - اندازه ی ماهی کمی بلندتر از است .



۹ - با کمک سه تا از مداد رنگی هایت جواب جمع را پیدا کن .

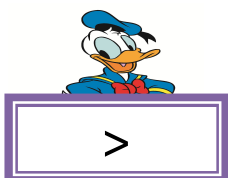
$$۱ + ۵ + ۳ = \dots$$



۱۰ - دسته های ده تایی درست کن و جدول را کامل کن .

ده تایی	یکی
.....

۱۱ - از عدد مناسب و علامت کمتر بیشتر یا مساوی استفاده کن .



این فایل از کانال معلم یار اول دانلود شده است .
برای حمایت از ما و دریافت نمونه سوالات با پاسخنامه بیشتر
در تلگرام آی دی زیر را جست و جو کنید

معلم یار اوّل

◀ نمونه سوال با پاسخنامه

◀ درسنامه

◀ فیلم های آموزش

◀ فیلم حل تعارین کتاب درسی

◀ گام به گام

◀ جزوه

برای دریافت مطالب کافی عضو کانال معلم یار اول

به آدرس: ▼▼

▶ @MoallemYariR1

بشید