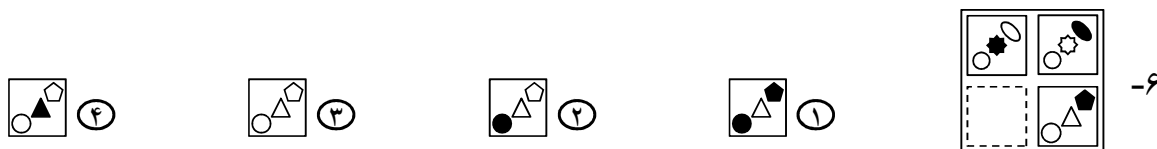
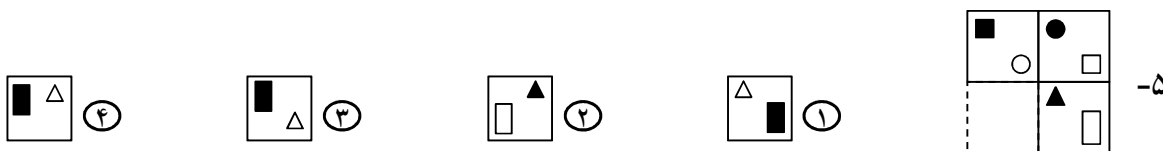
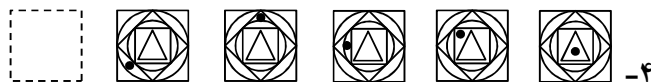
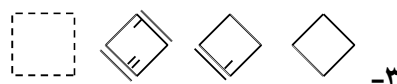
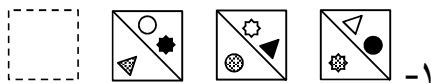
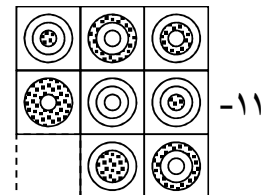
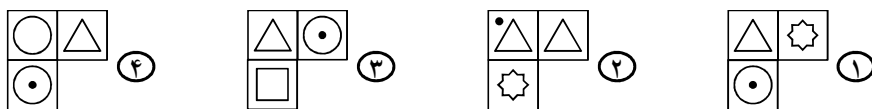
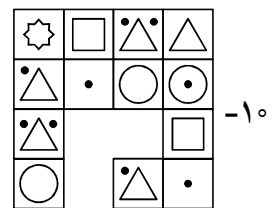
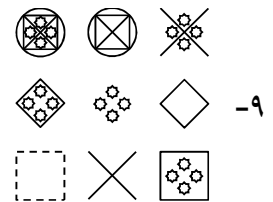
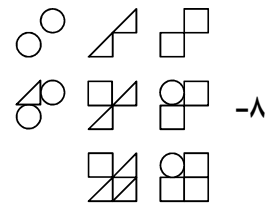


در پرسش‌های «۱» تا «۱۱»، با توجه به تصاویر داده شده، گزینه مناسب‌تر را برای پر کردن جای خالی انتخاب کنید.

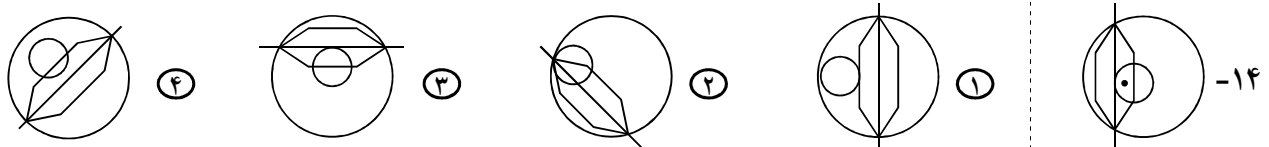
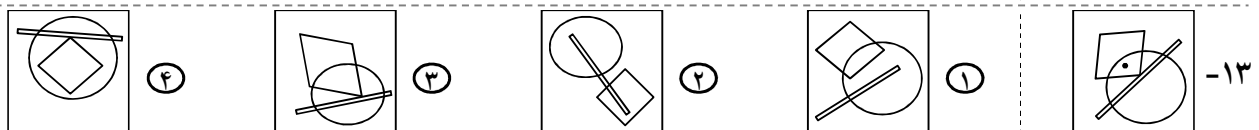
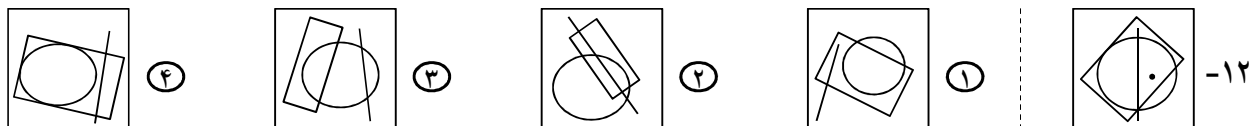
@riazicafe





❖ در پرسش‌های «۱۲» تا «۱۴»، در کدام گزینه می‌توان نقطه را در جایی قرار داد که جایگاه آن نسبت به شکل‌ها، به

تصویر داده شده همانندتر باشد؟



❖ در پرسش «۱۵»، با شکل گسترده داده شده، یک مکعب می‌سازیم. کدام گزینه نمی‌تواند تصویر این مکعب باشد؟

