

به نام خدا

تکلیف هفتگی

پایه دهم دبستان

اسفند ماه ۱

نام:

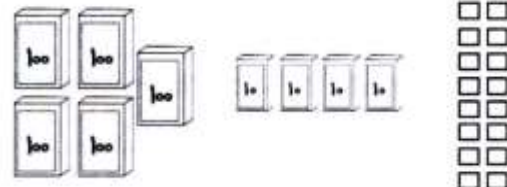
نام خانوادگی:

کلاس:



ریاضی: فصل ششم، درس ۱ و ۲

۱- برای هر شکل، عدد مناسب بنویس.



به عدد: به حروف:

به عدد: به حروف:

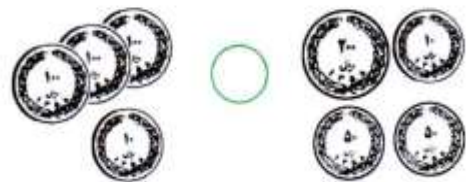
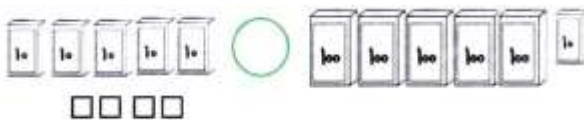
۲- علامت $>$ $=$ $<$ بگذار.



دو صدتایی و نه ده تایی سه صدتایی

۳ سانتی متر ۳۸ میلی متر

۲۴۰ سانتی متر ۲۴۰ میلی متر



$۶۸۰ + ۱۰۰$ $۸۶۰ - ۱۰۰$

یک ربع مانده به ده ۹:۴۵

۳- حاصل جمع و تفریق های زیر را بنویس. (سعی کن ذهنی حل کنی.)

$۵۰۰ + ۳۰۰ =$

$۴۰۰ + ۴۰۰ =$

$۳۰۰ + ۵۰ + ۵۰ + ۱۰ =$

$۶۰۰ - ۲۰۰ =$

$۷۴۲ - ۴۰۰ =$

$۸۴۰ - ۴۰ =$

$۱۸۰ + ۶۰۰ =$

$۴۶۰ - ۲۰۰ =$

$۳۴۰ + ۲۰ =$

۴- عدد هر قسمت را بنویس.



چرا در هر قسمت، شکل‌ها فرق دارند، اما عددها یکی هستند؟

۵- با حذف قسمت‌های مساوی از دو طرف، خانه‌ای را که حاصل عبارت بیش‌تری دارد، رنگ کن.

$$200 + 20 + 500 + 10$$

$$100 + 100 + 50 + 200 + 10$$

$$400 + 20 + 50 + 10$$

$$200 + 200 + 20 + 200 + 20$$

$$300 + 300 + 30 + 3$$

$$300 + 3 + 30 + 3$$

۶- با توجه به مراحل جمع و تفریق فرآیندی (گسترده‌نویسی)، در جاهای خالی، عدد مناسب بگذار.

$$\begin{array}{r} 444 \\ + 253 \\ \hline \end{array}$$

$$\begin{array}{r} + 50 \\ \hline 694 \end{array}$$

$$\begin{array}{r} + \dots \\ \hline \end{array}$$

$$\begin{array}{r} 405 \\ + 122 \\ \hline \end{array}$$

$$\begin{array}{r} 505 \\ + \dots \\ \hline \end{array}$$

$$\begin{array}{r} + \dots \\ \hline \end{array}$$

$$\begin{array}{r} 685 \\ - 453 \\ \hline \end{array}$$

$$\begin{array}{r} 235 \\ - \dots \\ \hline \end{array}$$

$$\begin{array}{r} - \dots \\ \hline \end{array}$$

$$\begin{array}{r} 875 \\ - 402 \\ \hline \end{array}$$

$$\begin{array}{r} 475 \\ - \dots \\ \hline \end{array}$$

$$\begin{array}{r} \dots \\ - \dots \\ \hline \end{array}$$

۷- الگویابی کن و ادامه بده.

$$400 - 450 - \dots - \dots - \dots$$

$$220 - 230 - \dots - \dots - \dots$$

$$175 - 275 - \dots - \dots - \dots$$

$$787 - 788 - \dots - \dots - \dots$$

