

به نام خداوند آفریننده‌ی دانا

دبستان هیات امنایی شهیدعلی اکبر طاهرخانی

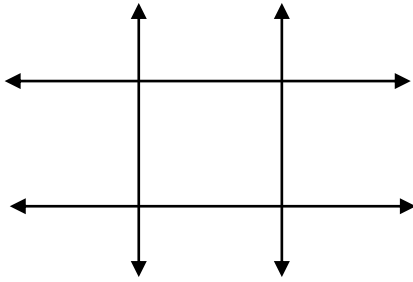
موضوع: خط، نیم خط و پاره خط

نام:

نام خانوادگی:



• شکل مقابل از چند خط تشکیل شده است؟




چهار ضلعی به وجود آمده را نام ببر.

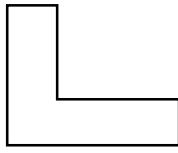
چرا دو سر خط علامت پیکان می گذاریم؟

نیم خط ها را نام گذاری کن و نام ببر.

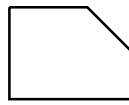
• در هر شکل، چند پاره خط دیده می شود؟



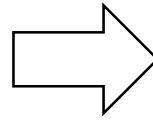
.....



.....



.....



.....



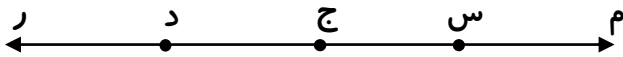
.....

• با توجه به شکل به سوال های زیر پاسخ بده.

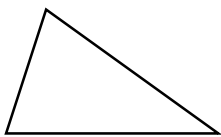
طول نیم خط (د م) چند سانتی متر است؟

طول پاره خط (س د) چند سانتی متر است؟

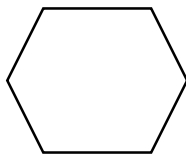
نام خط، پاره خط ها و نیم خط ها را بنویس.



• شکل های زیر را نام گذاری کن و نام هر یک را بنویس. سپس قطرهای آن ها را رسم کن.



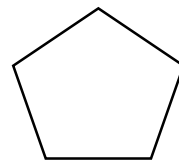
.....




.....



.....



.....



.....

• پاره خطی به طول ۳ سانتی متر ، نیم خطی به طول ۵ سانتی متر و خطی به طول ۶ سانتی متر بکش و نام گذاری کن.

• حالا که عالی تمرینات را انجام دادی، یک سوال مانند سوالات بالا طراحی و حل کن.

