

گزینه ی درست را انتخاب کنید و در مربع علامت (x) بزنید

- هواپیمای تهران - مشهد ساعت "۱۷:۴۶:۷" از فرودگاه مهرآباد پرواز کرد و بعد از "۳۶:۴۹" به مشهد رسید. این هواپیما چه ساعتی به مشهد رسیده است؟

- الف) "۵۳:۳۵:۸" ب) "۱۷:۴۶:۸" ج) "۵۳:۹" د) "۳۵:۵۳:۸"

- کدام یک از عددهای زیر از ۲۳ تا ۱۰۰۰۰ تا ۱۰۰ تا ۱۰۰۰۰۰۰۰ تایبی درست شده است؟

- الف) ۲۳۰۰۰ ب) ۲۳۱۰۰ ج) ۲۳۱۰۰۰ د) ۲۳۰۱۰۰

جاهای خالی را با کلمات و اعداد مناسب کامل کنید.

۱۰ تا ۱۰۰۰۰ تایبی برابر است با -----

یک دسته ۱۰۰ تایبی چک پول ۵۰۰۰۰۰ ریالی می شود ----- ریال و یا ----- تومان

به الگوی عددهای ----- و ۱۶ و ۹ و ۴ و ۱ الگوی عددهای ----- می گویند

- قد علی برابر ۱۲۷۵ میلی متر است؛ یعنی متر و سانتی متر و میلی متر

درست یا نادرست بودن جملات زیر را مشخص کنید.

- ۱۰۳۰۰ گرم یعنی ۱۰ کیلو گرم و ۳۰۰ گرم. درست نادرست

- اگر هر زنگ ۵۰ دقیقه و هر زنگ تفریح ۱۰ دقیقه باشد و در روز ۵ زنگ کلاس داشته باشیم زمان حضور در مدرسه ۶ ساعت و ۳۵ دقیقه می باشد. درست نادرست

با توجه به جدول ارزش مکانی عدد (۱۳۰۰۹۷۶) را داخل جدول قرار دهید و به سوالات زیر پاسخ دهید.

میلیارد			میلیون			هزار					
صدگان	دهگان	یکان	صدگان	دهگان	یکان	صدگان	دهگان	یکان	صدگان	دهگان	یکان

×۱۰

الف) توضیح دهید که چگونه با ضرب یک عدد در ۱۰ ارزش هر رقم تغییر می کند؟ -----

ب) پس از ضرب عدد در ۱۰ آن را به حروف بنویسید؟ -----

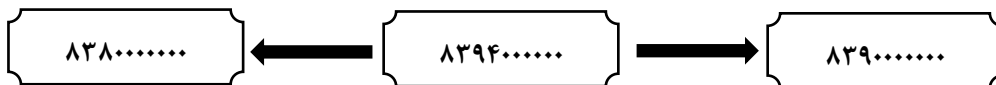
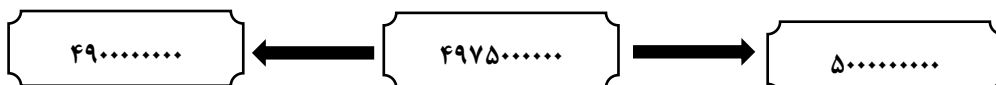
الگوهای زیر را ادامه دهید.

۵۰۰۰۰۰۰۰ ، ۶۰۰۰۰۰۰۰۰ ، ۷۰۰۰۰۰۰۰۰ ، ----- ، ----- ، -----

۷ میلیون ، ۶ میلیون ، ۵ میلیون ، ----- ، ----- ، -----

" ۱۰ : ۲۱ : ۱ و ۱ : ۲۱ : ۵۰ و ۲۰ : ۴۰ : ۱ " ، ----- ، ----- ، -----

در هر ردیف عدد وسطی به کدام یک نزدیک تر است؟ آن را رنگ کنید.



جمع و تفریق عددهای مرکب زیر را انجام دهید؟

$$\begin{array}{r} 15 \quad 41' \quad 28'' \\ - 3 \quad 20' \quad 48'' \\ \hline \end{array}$$

$$\begin{array}{r} 8 \quad 45' \\ + 6 \quad 55'' \\ \hline \end{array}$$

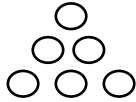
با توجه به شکل زیر و الگوی رسم شده، بقیه الگو را کامل کنید و به سوالات پاسخ دهید.



شکل ۱



شکل ۲



شکل ۳

شکل ۴

شکل ۵

..... و و و ۶ و ۳ و ۱

الف) جاهای خالی را با اعداد مناسب کامل کنید:

ب) اگر شکل ها به همین ترتیب ادامه پیدا کنند، شکل دهم، از چند دایره درست می شود؟

احمد به سینما رفت. فیلم ساعت ۱۹ و ۳۰ دقیقه شروع شد. اگر مدت زمان نمایش فیلم دو ساعت و ۳۵ دقیقه باشد. فیلم چه زمانی تمام می شود؟

در جای خالی علامت (<=>) بگذارید.


$$108765432 \quad \square \quad 876543210$$

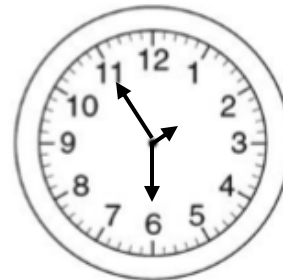
$$903000 \quad \square \quad 900300$$

بیست و چهار میلیون و هفتاد هزار و هفت بیست و چهار میلیون و هفت هزار و هفتاد

جرم یک هندوانه ۴ کیلو گرم و ۶۰۰ گرم است. جرم یک هندوانه دیگر ۳ کیلو گرم و ۷۰۰ گرم می باشد. جرم این دو هندوانه روی هم چقدر می شود؟

زمانی را که هر یک از ساعت های زیر نشان می دهد به صورت عدد مرکب بنویسید.





شاد و خندان باشید