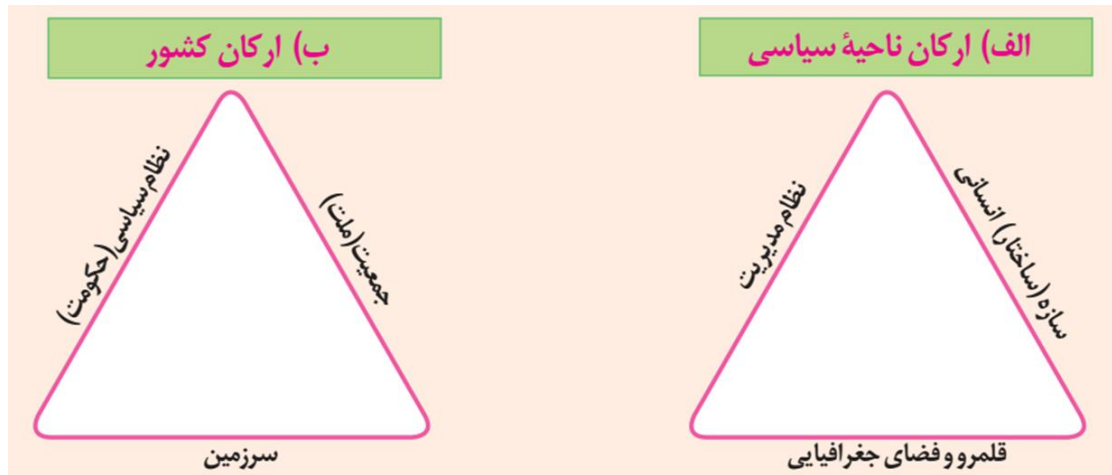


پاسخ فعالیت های درس ۱۰

فعالیت صفحه ۱۲۷

۱- با توجه به آنچه در درس قبل خوانده اید، رابطه تصویر الف و ب را توضیح دهید.



ارکان یک ناحیه سیاسی سازه انسانی، نظام مدیریت و قلمرو و فضای جغرافیایی است. یک کشور هم یک ناحیه سیاسی است. جمعیت سازه انسانی یک کشور است و نظام سیاسی یا حکومت یک کشور جزو نظام مدیریت کشور است و سرزمین هم جزو قلمرو و فضای جغرافیایی کشور است.

۲- آیا می توانید با توجه به آنچه در تصویر ب مشاهده می کنید، «کشور» را تعریف کنید؟ تعریف خودتان را یادداشت کنید.

کشور سرزمینی است که دارای نظام سیاسی (حکومت) و جمعیت است.

فعالیت صفحه ۱۲۹

۱- فکر کنید که به کدام مکان ها احساس تعلق و وابستگی عاطفی دارید. علت احساس تعلق خود را توضیح دهید.

هر انسانی به شهر، روستا، استان و کشور خود احساس تعلق و وابستگی عاطفی دارد. این احساس در طول زندگی انسان در محل زندگی اش به وجود می آید. وقتی شما به مسافرت می روید در طول سفر دلتان برای شهر و روستای محل زندگی تان تنگ می شود و وقتی به شهر و روستای تان بازمی گردید احساس می کنید محل زندگی تان را خیلی دوست دارید ...

۲- به نظر شما، وابستگی و تعلق عاطفی مردم یک کشور به وطن خود چه آثار و پیامدهایی برای آن کشور دارد؟ نظر خود را با مثال، توضیح دهید.

وابستگی و تعلق عاطفی موجب ایجاد وحدت و یکپارچگی در کشور می شود و ...

فعالیت صفحه ۱۳۲



۱- تصویر الف چه نوع مرزی را نشان می دهد؟ با مراجعه به نقشه امریکای جنوبی، موقعیت کشورها و رودهای مرزی آن ها را توضیح دهید.

تصویر الف مرز رودخانه ای را نشان می دهد که بین سه کشور پاراگوئه و آرژانتین و برزیل واقع دارد. نام بین برزیل و آرژانتین رود ایگواسو قرار دارد و بین پاراگوئه و کشورهای آرژانتین و برزیل رود پارانا واقع است.



۲— تصویر ب چه نوع مرزی را نشان می دهد؟ با توجه به آنچه پیشتر درباره اتحادیه اروپا گفته شد، توضیح دهید.
مرز بین بلژیک و هلند مرز غیرطبیعی یا مصنوعی است.

۳— دوازده مایل دریایی چند کیلومتر است؟ حساب کنید.
هرمایل دریایی ۱۸۵۳ متر است و ۱۲ مایل دریایی کمی بیش از ۲۲ کیلومتر می باشد.

۴— بیندیشیم:
رود به عنوان یک پدیده طبیعی برای تعیین مرز سیاسی دو کشور ممکن است طی زمان چه مشکلاتی ایجاد کند؟

تغییر مسیر رودها در طی زمان موجب ایجاد مشکلاتی بین دو کشور می شود.
— چرا بهترین خط مرزی در رودخانه های قابل کشتی رانی خط تالوگ است؟
زیرا هر دو کشور می توانند در رودخانه مرزی کشتی رانی کنند.

فعالیت صفحه ۱۳۵

۱— در کدام یک از انواع مرزها حداقل کشمکش ها و اختلافات مشاهده می شود؟ چرا؟
در کدام یک امکان بروز اختلافات و ناآرامی ها بیشتر است؟ توضیح دهید.

در مرزهای قبل از سکونت یا پیش‌تاز حداقل کشمکش سیاسی دیده می‌شود زیرا مردمی که در دو سوی مرز زندگی می‌کنند زمانی ساکن شده‌اند که مرز بین دو کشور وجود داشته است و مردم خود را با مرز تطبیق داده‌اند.

۲— با مشاهده یک نقشه جنوب غربی آسیا، ۱۵ کشوری را که ایران از طریق خشکی و دریا با آنها هم مرز است، نام ببرید.

۱- عراق ۲- ترکیه ۳- روسیه ۴- آذربایجان ۵- ارمنستان ۶- کویت ۷- عربستان ۸- بحرین ۹- قطر ۱۰- امارات متحده عربی ۱۱- عمان ۱۲- پاکستان ۱۳- افغانستان ۱۴- ترکمنستان ۱۵- قزاقستان

۳— الف) چرا باید از تلاش‌های مرزبانان کشور قدردانی کنیم؟

کاری که مرزبانان کشورمان انجام می‌دهند بسیار بار ارزش است آنان از کشورمان در مقابل هجوم دشمنان دفاع می‌کنند و موجب برقرار امنیت در داخل کشور می‌شوند و...

ب) با توجه به ارزش شغل «مرزبانی»، نام‌های برای قدردانی خطاب به مرزبان‌ها بنویسید. این نامه را در کلاس بخوانید.

نامه‌ای برای مرزبانان بنویسید و در کلاس ارائه کنید.

۴— اگر تاکنون از یک پایانه مرزی یا بازارچه مرزی کشور عبور یا دیدن کرده‌اید، درباره موقعیت جغرافیایی آن منطقه و مشاهدات خود از سفر به منطقه مرزی برای همکلاسی‌هایتان توضیح دهید.

اگر سفری به عتبات عالیات داشته‌اید می‌توانید مشاهدات خود را از مرز خسروی و مهران بنویسید و در کلاس ارائه کنید.

۵— بیندیشیم:

به نظر شما، ایجاد پایانه‌های مرزی کالا در نواحی مرزی ایران چه تأثیراتی بر اقتصاد این نواحی دارد؟ توضیح دهید.

ایجاد بازارچه های مرزی بین دو کشور موجب رونق اقتصادی و ایجاد اشتغال می شود و...



۱— با توجه به آنچه در درس تاریخ خوانده اید، عوامل مؤثر در انتخاب تهران به پایتختی را تحلیل کنید.

قرار گرفتن تهران بین کوه های البرز از طرف شمال و نواحی بیابانی در جنوب به عنوان موانع حمله دشمن به تهران و...

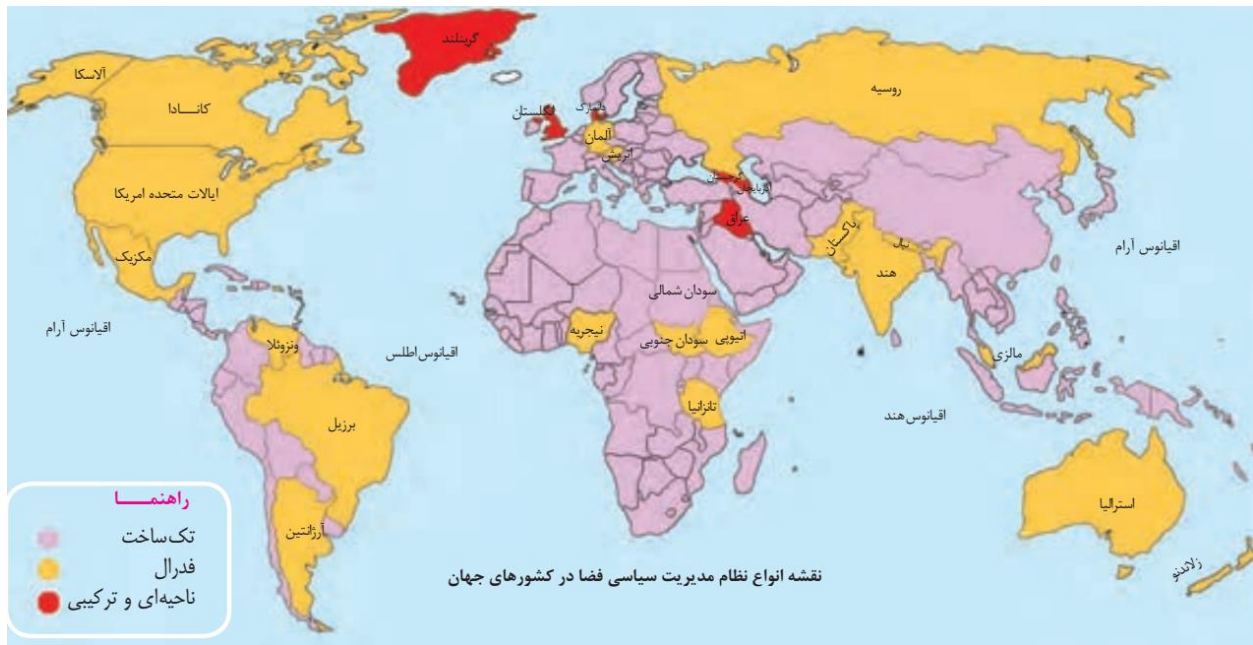
۲— در سال های اخیر، طرح انتقال پایتخت از تهران به مکانی دیگر مطرح شده و حتی در مجلس شورای اسلامی نیز درباره آن گفت و گوهایی صورت گرفته است. این طرح موافقان و مخالفانی دارد.

به نظر شما دو مزیت و دو پیامد منفی یا مشکل اجرای این طرح چیست؟

به نظرمی رسد کشور ما اگر دارای دو پایتخت باشد بهتر است یعنی یک پایتخت سیاسی و یک پایتخت اقتصادی و باین کار عدالت فضایی رعایت می شود. البته اجرای انتقال پایتخت و یا اجرای دو پایتختی کاری بسیار مشکل است و بعید به نظرمی رسد که چنین طرحی اجرا شود و...

فعالیت صفحه ۱۳۹

۱— با توجه به یک نقشه جهان نما، چند کشور دارای نظام فدرال و چند کشور با نظام یکپارچه نام ببرید.



با توجه به نقشه کشورهایمانند کانادا، ایالات متحده امریکا، برزیل ، استرالیا، هند، پاکستان، نیجریه، تانزانیا، سودان جنوبی ، نیوزلند و آلمان با نظام فدرال اداره می شوند و کشورهایمانند چین ، ایران، عربستان، فرانسه، الجزایر ، اندونزی و... با نظام یکپارچه اداره می شوند. تعداد کشورهایمانند چین با نظام یکپارچه بیشتر از کشورهای فدرال می باشد.

۲- کدام کشور همسایه ایران با نظام فدرالی و کدام یک با نظام ناحیه ای و ترکیبی اداره می شود؟

روسیه و پاکستان با نظام فدرال اداره می شوند و عراق با نظام ناحیه ای و ترکیبی اداره می شود.

۳- الف) جدولی با دو ستون رسم کنید و حداقل چهار ویژگی نظام سیاسی تک ساخت و چهار ویژگی نظام فدرال را داخل آن بنویسید.

| چهار ویژگی نظام فدرال | چهار ویژگی نظام سیاسی تک ساخت |
|----------------------------------------------------------------------------------|------------------------------------------------------------------------------------------------------------------------------|
| کشور به چند ایالت تقسیم می شود و ایالت ها اختیارات زیادی دارند. | کشور به واحدهای سیاسی و اداری کوچک تر مانند استان و شهرستان تقسیم می شود اما حکومت مرکزی حدود اختیارات آنها را تعیین می کند. |
| حکومت و توزیع قدرت در سرزمین دو سطح دارد: (الف) سطح فدرال (ملی و حکومت مرکزی) | اختیارات محلی محدود و نظام قانون گذاری و سیاست گذاری متمرکز است. |

| | |
|--------------------------------------------------------------------------------------------------------|-------------------------------------------------------------------------------------------------------------------------------|
| (ب) سطح ایالت (منطقه) | |
| هر ایالت علاوه بر وجود حکومت و نیروی تصمیم گیری در سطح ملی، قوه مقننه و مجریه و قضائیه مستقل نیز دارد. | . قدرت سیاسی از یک کانون، یعنی پایتخت، به سایر نواحی کشور اعمال می شود و مدیریت های محلی، تصمیمات دولت مرکزی را اجرا می کنند. |
| مجلس نمایندگان و سنا در مرکز کشور و مجلس ایالتی در هر ایالت مستقرند و قانون گذاری می کنند. | یک سطح قانون گذاری، یعنی مجلس ملی قانون گذاری، در مرکز وجود دارد و قوانین و مقررات و تشکیلات اداری در تمام کشور همسان است. |

ب) در کدام نظام سیاسی به تفاوت های جغرافیایی و فرهنگی بیشتر توجه می شود ؟ در کدام نظام، حفظ همبستگی و وحدت ملی در شرایط بحرانی آسان تر است؟

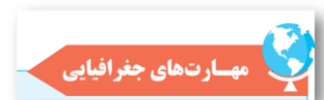
در نظام سیاسی فدرال بیشتر به تفاوت های جغرافیایی و فرهنگی توجه می شود و در نظام یکپارچه حفظ همبستگی و وحدت ملی در شرایط بحرانی آسان تر است و...

۴- بیندیشیم :

دو کشور آلمان غربی و شرقی، و یمن شمالی و جنوبی پس از این که سال ها به صورت دو کشور جداگانه در آمده بودند و با دو حکومت متفاوت اداره می شدند، سرانجام به هم پیوستند و امروز یک کشورند. با توجه به عنصر «ملت» این موضوع را تحلیل کنید. به نظر

شما، آیا ممکن است این اتفاق در آینده برای کشور کره شمالی و جنوبی نیز بیفتد ؟ وجود یک ملت واحد در این کشورها موجب شد که آلمان شرقی و غربی و یا یمن شمالی و جنوبی با هم یکی شوند. در واقع مردم خواستند و...

— چرا کشور یوگسلاوی سابق از هم پاشید و به چند کشور تجزیه شد ؟ تفاوت های فرهنگی ، قومی ، زبانی و دینی موجب شد که کشور یوگسلاوی سابق از هم بپاشد و...



۱- از طرح نقشه (نقشه گنگ) ایران و کشورهای همسایه در ضمیمه آخر کتاب کپی بگیرید.

الف) حدود مرزهای رودخانه ای ایران را روی آن مشخص کنید.



ب) بلندترین و کوتاه ترین مرز ایران با کشورهای همسایه را با علامت ++ و -- روی نقشه مشخص کنید.

پ) نام کشورهای همسایه ایران را بنویسید. نام کشورهایی که ایران با آنها مرز آبی (دریایی) دارد را با علامت ستاره معین کنید.



ت) نام استان های مرزی ایران را در مجاورت مرزها بنویسید. چند استان مرزی داریم؟



۱۳ استان مرزی داریم

۲- نخست، عددهای جدول زیر را به درصد تبدیل کنید. سپس، نمودار مناسبی بر مبنای درصد برای نمایش اطلاعات جدول ترسیم کنید .

| طول مرزهای ایران (کیلومتر) | مرزهای رودخانه ای | مرزهای زمینی (خشکی) | مرزهای آبی (دریایی) |
|----------------------------|-------------------|---------------------|---------------------|
| ۸۷۵۵ | ۱۹۱۸ | ۴۱۳۷ | ۲۷۰۰ |

مأخذ: فرماندهی مرزبانی جمهوری اسلامی ایران

