






<p>تاریخ: دی ۹۶-۹۵</p> <p>مدت آزمون: ۵۰ دقیقه</p>	<p>بسمه تعالی</p> <p>اداره آموزش و پرورش منطقه زواره</p> <p>دبستان هجرت</p>	<p>نام و نام خانوادگی:</p> <p>نام پدر:</p> <p>سوالات در سه صفحه</p>
تصحیح	سوالات	
	۱- با عدد ۲ - ۴ - ۵ چند عدد سه رقمی می توان نوشت؟	
	<p>۲- الگوی عددی را ادامه بده.</p> <p>۳ - ۶ - ۹ - - - -</p> <p>۱۲۵ - ۱۳۰ - - - -</p>	
	۳- اگر علی ۱۰ تا سکه ۱۰ ریالی به بانک بدهد، بانک باید چند سکه به او بدهد؟	
	<p>۴- مسأله ی زیر را روی محور انجام بد هید.</p> <p>۱۴ پرنده روی درخت بودند. ۶ تا پرنده ها پریدند. حالا چند پرنده روی درخت مانده است؟</p> 	
	<p>۵- در کنار شکل تعداد ضلع و گوشه ها را بنویسید.</p> <p>چند ضلع ----- چند گوشه -----</p> <p>نام شکل -----</p> <p>تفاوت -----</p> <p>شباهت -----</p> 	

۶- علی ساعت ۱۰:۴ مشغول درس خواندن شد. بعد از نیم ساعت درسش تمام شد. روی ساعت آن را

نشان بده و بگو علی چند ساعت درسش تمام شده است؟



۷- قبل و بعد عددهای زیر را بنویس.

----- دویست ----- ، ----- ۱۲۷ ----- ، ----- ۵۹ -----

----- نود و هشت ----- ، ----- ۲۴۶ ----- ، ----- ۱۰۹ -----

۸- زهرا می خواهد با پول قلک هایش مداد بخرد. به او کمک کنید تا ۴۳۵ ریال را دسته بندی کند.



۹- جمع و تفریق های زیر را انجام دهید.

$$90 - 40 =$$

$$79$$

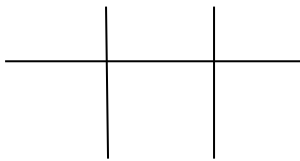
$$76$$

$$5 + 5 + 40 + 30 =$$

$$\begin{array}{r} 79 \\ + 20 \\ \hline \end{array}$$

$$\begin{array}{r} 76 \\ - 22 \\ \hline \end{array}$$

۱۰ با کمک شابلون دایره و مثلث و شش ضلعی رسم کنید و تقارن آن را بکشید.



۱۱ عدد ۷۴۶ چند رقمی است ؟

به حروف بنویسید -----

ارزش کدام عدد کمتر است ؟ -----

برای عدد داده شده شکل بکش.

در جدول ارزش مکانی قرار بده .

توصیف عملکرد	تسلط کامل	تسلط خوب	متوسط	کم
مفهوم عدد و رقم را درک کرده است. الگوی عدد را نوشته است. مسئله را با راه حل خواسته شده انجام داده است. تعداد ضلع و گوشه و تقارن را در شکل های هندسی تشخیص داده است و شباهت و تفاوت را نوشته است. جمع و تفریق را انجام داده است. ساعت و مفهوم زمان را درک کرده است. قبل و بعد عددها را می داند.				

باز خورد آموزگار:

من یاد نگرفتم:

خود سنجی: من یاد گرفتم:

پس :