



به نام خالق زیبایی‌ها

دبستان غیرانتفاعی باقرالعلوم (علیه السلام)



موضوع: آزمون ارزشیابی ریاضی فصل (۵ ، ۶ ، ۷)

کلاس: دوم ۱


نام و نام خانوادگی:

۱- با رنگ کردن چینه‌ها در جای خالی عدد مناسب بگذارید.



اندازه‌ی فلش و است.

۲- طول شانه بین چینه و چینه است. یعنی از چینه بیشتر و از کمتر است.



۳- با توجه به شکل جمله‌های زیر را کامل کنید.



نقطه‌ی مشخص شده قسمت بزرگ و قسمت کوچک است.



۴- با استفاده از خط کش طول خط‌های زیر را اندازه بگیرید.

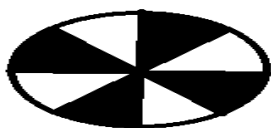


طول این خط سانتی متر و میلی متر است.



طول این خط سانتی متر و قسمت از قسمت مساوی است.

۵- با توجه به شکل جملات را کامل کنید.



..... قسمت از قسمت مساوی رنگ شده است.

..... قسمت از قسمت مساوی رنگ شده است.

۶- حاصل جمع و تفریق های زیر را بدست آورید .

با استفاده از روش فرایندی

$$\begin{array}{r} 363 \\ + \\ \hline 514 \end{array}$$

$$\begin{array}{r} 985 \\ - \\ \hline 643 \end{array}$$



با استفاده از روش تکنیکی

$$\begin{array}{r} 587 \\ + \\ \hline 296 \end{array}$$

$$\begin{array}{r} 701 \\ - \\ \hline 348 \end{array}$$

۷- قد مهدی ۱۷۳ سانتی متر است و برادرش ۱۶ سانتی متر از او کوتاهتر است .

الف) قد برادر مهدی چند سانتی متر است ؟

ب) قد مهدی و برادرش روی هم چند سانتی متر است ؟


۸- علی ۸۰۰ ریال پول داشت . او یک مداد به قیمت ۱۸۰ ریال و یک دفتر به قیمت ۲۴۵ ریال خرید .

الف) علی چند ریال از پول هایش را خرج کرده است ؟

ب) چقدر برایش باقی مانده است ؟

۹- در یک کیسه ۹ عدد توپ است . ۴ تایی آن زرد و ۳ تایی آن نارنجی و ۲ تایی دیگر آبی است .

اگر بدون نگاه کردن یک توپ از کیسه بیرون آوریم . شانس کدام توپ بیشتر است ؟ چرا ؟



..... دسته ی تایی



..... دسته ی تایی

۱۰- با توجه به شکل کامل کنید .

۱۰- یک صفحه ی چرخنده مثل شکل زیر رنگ شده است .

الف) قسمت از قسمت شکل صورتی است .

ب) احتمال ایستادن عقربه روی کدام رنگ کمتر است ؟ چرا ؟

