

نام و نام خانوادگی:

نام دبیر: خانم علی نژاد

دبستان پسرانه ایران

«تکلیف ریاضی»

پایه سوم ابتدایی


سال تحصیلی: ۱۳۹۸-۱۳۹۷

ردیف

خداوندا، دانش مرا بیفزای، چرا که دانش بهتر از دارایی است. دانش مرا پاس می دارد.

۱-

محیط هر یک از شکل های زیر چند سانتی متر است؟



۲-

حاصل ضرب های زیر را به شکل ذهنی حساب کنید.

×	۶۰	۷۰	۸۰	۹۰	۱۰۰
۶					
۵					

۳-

سمانه ۱۹ مهره ی رنگی داشت که می خواست در چهار کیسه آن را به طور مساوی تقسیم کند. در هر چند مهره قرار می گیرد و چند تا باقی می ماند؟

$$\begin{array}{r} 19 \overline{) 4} \\ \underline{} \\ \end{array}$$

۴-

حسین ۱۳ پرتقال داشت که می خواست آن ها را به طور مساوی در سه بشقاب قرار دهد، در هر بشقاب چند پرتقال قرار دهد؟

$$\begin{array}{r} 13 \overline{) 3} \\ \underline{} \\ \end{array}$$

۵-

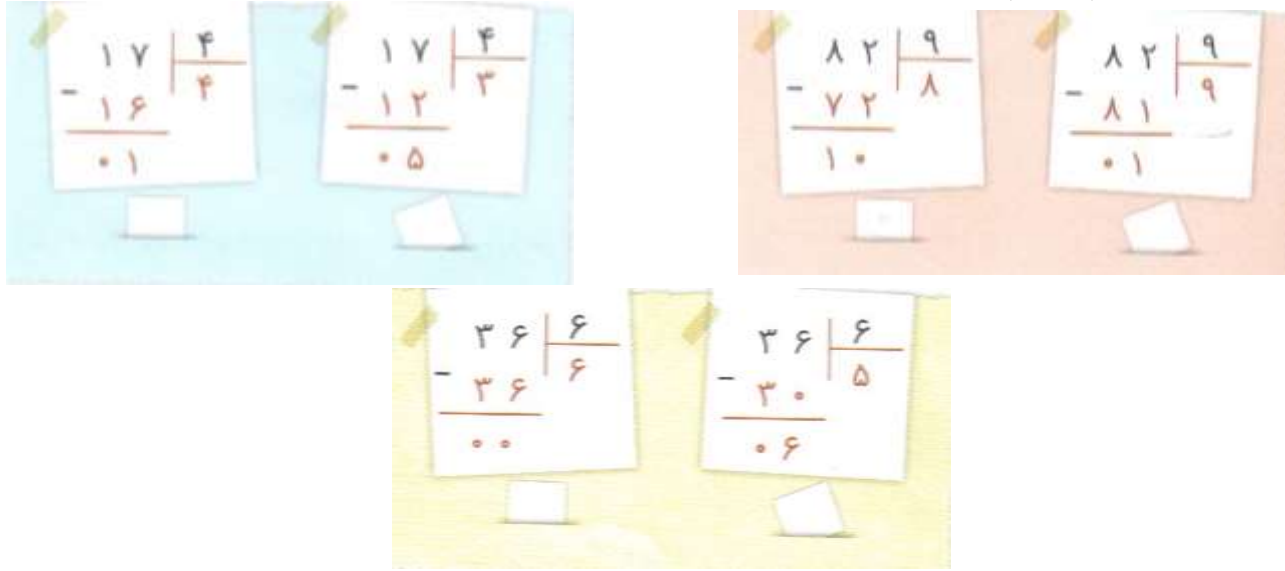
در هر تقسیم جاهای خالی را با شکل مناسب پر کنید.


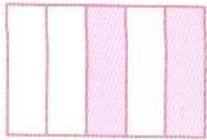
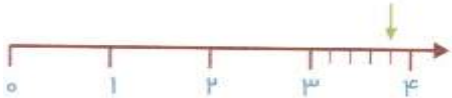
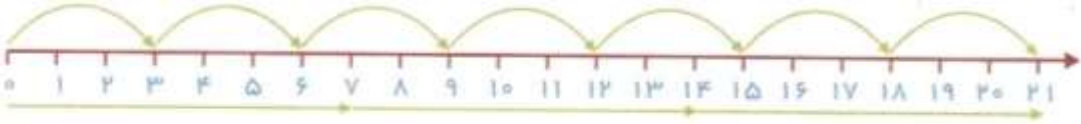

$$\begin{array}{r} 18 \overline{) 4} \\ - 16 \\ \hline \end{array}$$


$$\begin{array}{r} 23 \overline{) 7} \\ - \\ \hline \end{array}$$

$$\begin{array}{r} 42 \overline{) 6} \\ - \\ \hline \end{array}$$

$$\begin{array}{r} 74 \overline{) 8} \\ - 72 \\ \hline \end{array}$$

<p>می‌خواهیم ۶۳ کیک یزدی را ۷ تا ۷ در جعبه‌ها قرار دهیم. چند جعبه لازم داریم؟</p>	<p>۶-</p>
<p>در هر قسمت کدام تقسیم درست است؟ علامت * بنویسید.</p> 	<p>۷</p>
<p>۸- نیما در یک روز ۳ صفحه از کتابش را خواند. او تصمیم گرفت هر روز ۲ برابر روز قبل مطالعه کند تا در پایان روز چهارم کتابش را تمام کند. الف) او در پایان روز دوم چند صفحه از کتابش را خواند؟ ب) او در پایان روز سوم چند صفحه از کتابش را خواند؟ ج) نیما در پایان روز چهارم چند صفحه از کتابش را خواند؟ د) کتاب نیما چند صفحه دارد؟</p>	<p>۸-</p>
<p>۹- الگوهای زیر را ادامه دهید.</p> <p>۱۴-۱۶-۱۹-.....-.....-..... +.....+..... ۲۵-۲۷-۳۱-.....-.....-..... +.....+..... -.....-.....-۲۰-۲۱-۲۲-.....-..... -.....-.....</p> <p>۲۱۰۰-۲۲۰۰-۲۳۰۰-.....-.....-..... ۱۵۰۰-۲۰۰۰-۲۵۰۰-.....-.....-..... -.....-.....-۱۹۰-۱۹۴-۱۹۸</p>	<p>۹-</p>

۱۰-	ناصر همیشه ساعت ۸ شب شام می خورد و ساعت ۲۲ می خوابد او چند ساعت بعد از شام خوردن می خوابد؟								
۱۱-	رضا و صادق به مقدار مساوی پول داشتند. رضا با $\frac{2}{3}$ پولش دو دفتر و صادق با $\frac{2}{5}$ پولش یک کتاب خرید. کدام یک پول بیشتری پرداخت کرده است؟								
۱۲-	<p>هر کدام را به واحد اندازه گیری مناسب وصل کنید.</p> <table border="0" style="width: 100%; text-align: center;"> <tr> <td style="border: 1px solid black; padding: 5px;">بلندی یک ساختمان</td> <td style="border: 1px solid black; padding: 5px;">ضخامت یک کاغذ</td> <td style="border: 1px solid black; padding: 5px;">فاصله تهران تا مشهد</td> <td style="border: 1px solid black; padding: 5px;">طول مداد</td> </tr> <tr> <td style="border: 1px solid black; padding: 5px;">کیلومتر</td> <td style="border: 1px solid black; padding: 5px;">متر</td> <td style="border: 1px solid black; padding: 5px;">میلی متر</td> <td style="border: 1px solid black; padding: 5px;">سانتی متر</td> </tr> </table>	بلندی یک ساختمان	ضخامت یک کاغذ	فاصله تهران تا مشهد	طول مداد	کیلومتر	متر	میلی متر	سانتی متر
بلندی یک ساختمان	ضخامت یک کاغذ	فاصله تهران تا مشهد	طول مداد						
کیلومتر	متر	میلی متر	سانتی متر						
۱۳-	<p>۹۷۲۳ متر با کدام گزینه برابر است؟</p> <p> <input type="radio"/> ۹۷(۱) کیلومتر و ۲۳ متر <input type="radio"/> ۹۷۲(۲) کیلومتر ۳ متر <input type="radio"/> ۹(۳) کیلومتر ۷۲۲ متر <input type="radio"/> ۹۷۲۳(۴) سانتی متر </p>								
۱۴-	<p>کسر مربوط به هر شکل را بنویسید؟</p> <div style="display: flex; justify-content: space-around; align-items: flex-end;"> <div style="text-align: center;">  <p>.....</p> </div> <div style="text-align: center;">  <p>.....</p> </div> <div style="text-align: center;">  <p>.....</p> </div> </div>								
۱۵-	<p>برای هر محور دو تساوی ضرب بنویسید.</p> <div style="display: flex; justify-content: space-around;"> <div style="text-align: center;">  <p>..... × =</p> </div> <div style="text-align: center;">  <p>..... × =</p> </div> </div>								

-۱۶	ساغر ۹ سال دارد. سن پدرش ۵ برابر سن او و سن مادرش ۴ برابر سن اوست. آن‌ها باهم چند سال دارند؟
-۱۷	<p>جاهای خالی را پر کنید.</p> <p>$(9 \times 3) = (4 \times 3) + (\dots \times \dots)$ $(\dots \times \dots) = (5 \times 4) + (4 \times 3)$</p> <p>$(7 \times 6) = (\dots \times 6) + (\dots \times 6)$ $(\dots \times \dots) = (5 \times 5) + (5 \times 4)$</p>
-۱۸	<p>جمع و تفریق‌های زیر را انجام دهید.</p> $\begin{array}{r} 3986 \\ + 4269 \\ \hline \end{array}$ $\begin{array}{r} 8512 \\ - 4523 \\ \hline \end{array}$
-۱۹	<p>مساحت قسمت رنگ‌شده را حساب کنید.</p> 
-۲۰	<p>امین روزی ۱۵ صفحه از کتابش را می‌خواند. بعد از یک هفته ۲۲ صفحه از کتاب باقی مانده است. کتاب او چند صفحه دارد؟</p>
-۲۱	<p>ضرب و تقسیم زیر را انجام دهید.</p> $\begin{array}{r} 124 \\ \times 5 \\ \hline \end{array}$ $79 \overline{) 9}$