

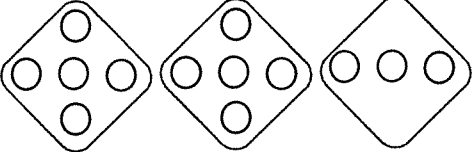

به نام خدا

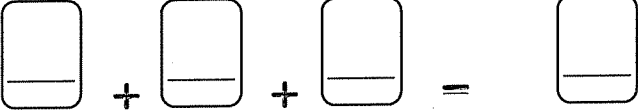
نام و نام خانوادگی:

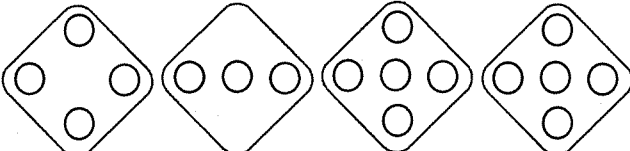

تاریخ:

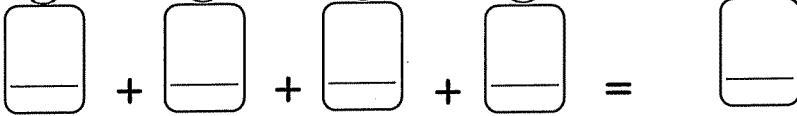
تم ۱۷

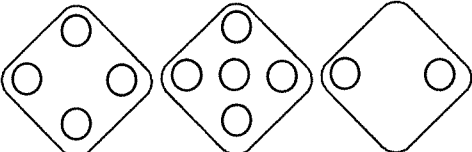

با توجه به شکل، عبارت جمع را کامل کن. جواب را با چوب خط و عدد نشان بده.

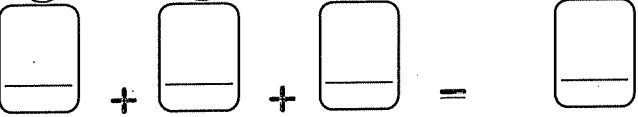



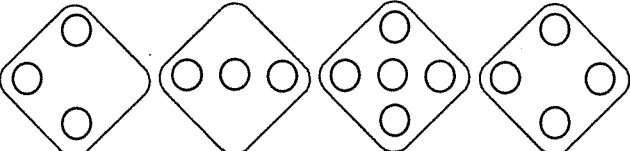



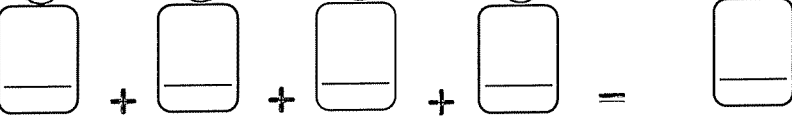





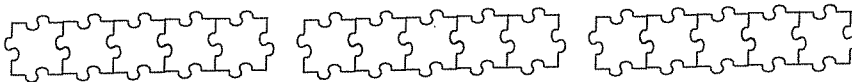





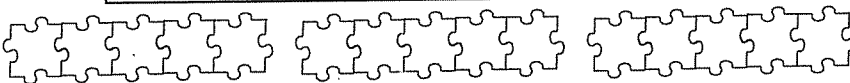





با توجه به جمع نوشته شده، شکل ها را با رنگ های مختلف رنگ بزن و جواب را بنویس.




$$۳ + ۲ + ۸ =$$



$$۶ + ۲ + ۴ + ۳ =$$

نظر آموزگار:






به نام خدا

تاریخ:

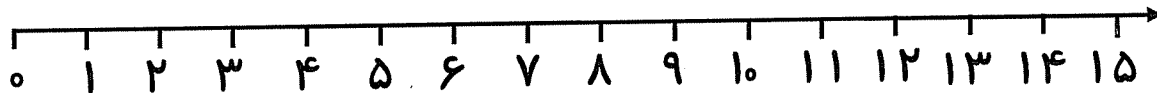
تم ۱۷

نام و نام خانوادگی:


جواب جمع و تفریق ها را با کمک محور پیدا کن.



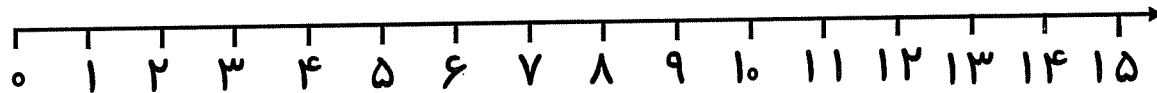
$$6 + 4 =$$



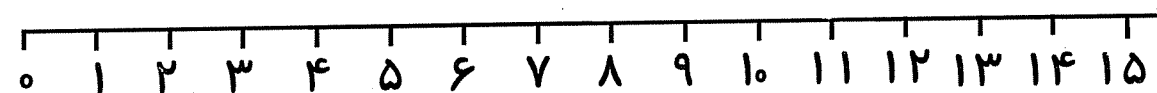
$$12 - 5 =$$



$$8 + 3 =$$




$$9 - 7 =$$



$$3 + 4 + 5 =$$





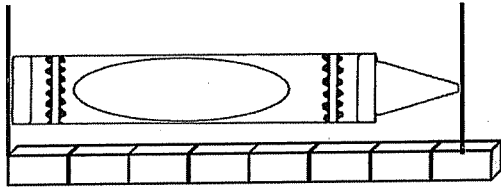
به نام خدا

نام و نام خانوادگی:

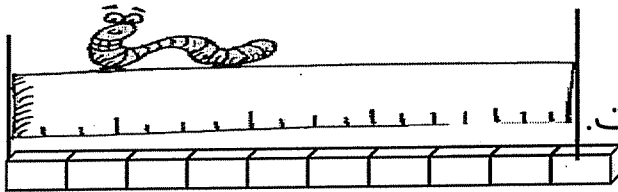
تاریخ:

تم ۱۷

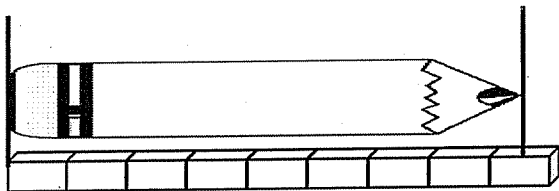
در جاهای خالی عدد مناسب بنویس.



اندازه ی ماژیک بین تا است.

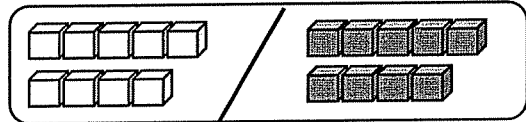
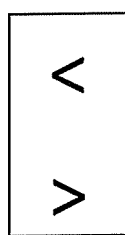
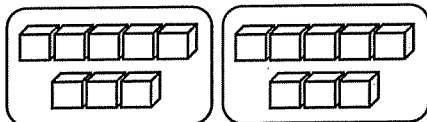
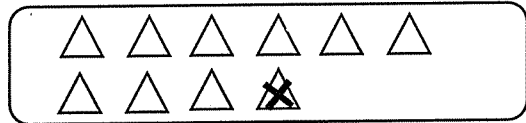
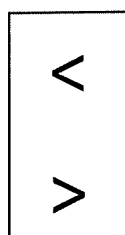
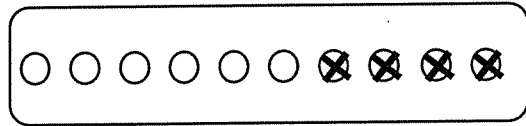
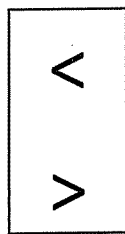
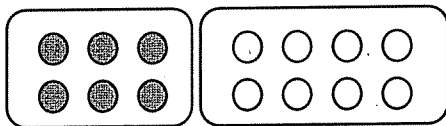


اندازه ی خط کش بین تا است.



اندازه ی مداد بین تا است.

برای هر شکل جمع یا تفریق بنویس. جواب ها را مقایسه و علامت مناسب را انتخاب کن.



نظر آموزگار:

