

سوالات درس ۲۱ «مطالعات اجتماعی»

۱. خانه ی دوم دانش آموزان کجاست؟ **مدرسه**
۲. چه افرادی در یک دبستان یا مدرسه کار می کنند؟ **مدیر، معاون یا معاونین، آموزگاران یا دبیران، مربی ورزش، مربی بهداشت، دفتردار، سرایدار، خدمتگذار و**
۳. مسئول اصلی یک مدرسه چه کسی است؟ **مدیر**
۴. چه کسی مسئول برقراری نظم و در مدرسه است؟ **ناظم و معاونین**
۵. چه مکان هایی در یک مدرسه وجود دارد؟ **کلاس های درس، دفتر آموزگاران یا دبیران، اتاق مشاوره، نمازخانه، کتابخانه، سالن اجتماعات یا برگزاری مراسم، سرایداری، انبار، اتاق بهداشت، آزمایشگاه و کارگاه، اتاق ورزش، سرویس های بهداشتی و**
۶. کدام یک از مکان های یک مدرسه مناسب برای مطالعه کردن و یا امانت گرفتن کتاب است؟ **کتابخانه ی مدرسه**
۷. مدیر مدرسه چه وظایفی دارد؟ **مدیر مدرسه مسئول اصلی تمام امور مدرسه است و بر کارهای بقیه پرسنل نظارت دارد. مدیر مدرسه مسئول رسیدگی به امور مالی، اجرایی، آموزشی و است.**
۸. معاون مدرسه چه وظایفی دارد؟ **بعد از مدیر، معاون مدرسه، مسئول رسیدگی به امور آموزشی و پرورشی است و برنامه های آموزشی و مدرسه را در طول سال تحصیلی پیش بینی و اجرا می کند.**
۹. آموزگاران چه وظیفه ای در مدرسه دارند؟ **وظیفه ی خطیر تدریس، تعلیم و تربیت و راهنمایی دانش آموزان در امور مختلف را به عهده دارند.**
۱۰. وظیفه ی مربی تربیتی چیست؟ **برگزاری مراسم های مختلف به مناسبت های مختلف در طول سال تحصیلی، برگزاری مسابقات پرورشی (مسابقات حفظ و قرائت قرآن کریم و....)**
۱۱. سرایدار چه وظیفه ای دارد؟ **حفظ و نگهداری اموال مدرسه**
۱۲. خدمتکار چه وظایفی دارد؟ **نظافت کلاس ها و سالن و مدرسه**
۱۳. چه کارهای مفیدی در مدرسه انجام می شود؟ **آموزش و یاددهی دروس به دانش آموزان پایه های مختلف، انجام فعالیت های پرورشی و قرآنی، برگزاری کلاس های فوق العاده مورد نیاز، برگزاری مسابقات ورزشی و ...**

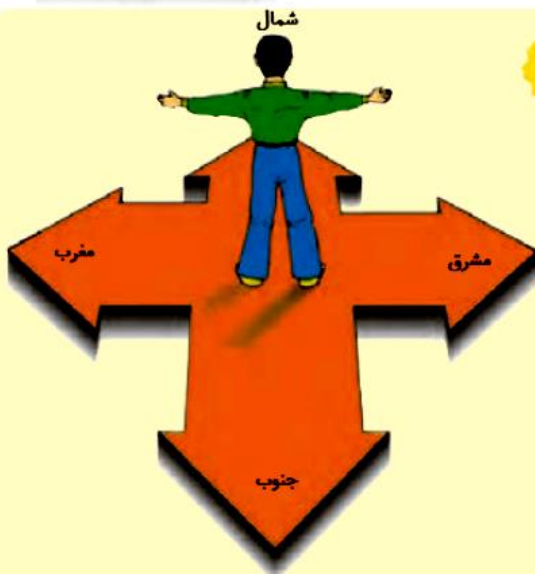


آیا می‌توانید از روی نقشه‌ی صفحه‌ی قبل مسیر این پسر را به دفت‌ر پست نشان دهید؟



راستی، منظور این آقا از سمت شمال و سمت شرق چه بود؟

مهم



- هر روز صبح، خورشید از جهت مشرق طلوع می‌کند و در پایان روز در جهت مغرب غروب می‌کند.

- اگر در یک صبح آفتابی، طوری بایستیم که دست راست ما به طرف مشرق و دست چپ ما به طرف مغرب باشد، روبه‌روی ما شمال و پشت سرمان جنوب خواهد بود.

شمال، جنوب، مشرق و مغرب جهت‌های اصلی هستند.

- جهت‌ها نشان می‌دهند که هر مکان در کجا قرار

دارد.

دانش‌آموزان یک مدرسه با کمک معلم خود جهت شمال را در مدرسه پیدا کردند و روی زمین علامت زدند. آن‌ها بازی «جهت‌ها را پیدا کن» را در حیاط انجام دادند. معلم: حسن رو به شمال بایست. حالا دو قدم برو به سمت مشرق، حالا سه قدم برو سمت جنوب و....



پاسخ دهید



۱- در یک صبح آفتابی با کمک معلم خود، جهت‌های اصلی را در حیاط مدرسه پیدا کنید. جهت یابی را در حیاط تمرین کنید.

شمال



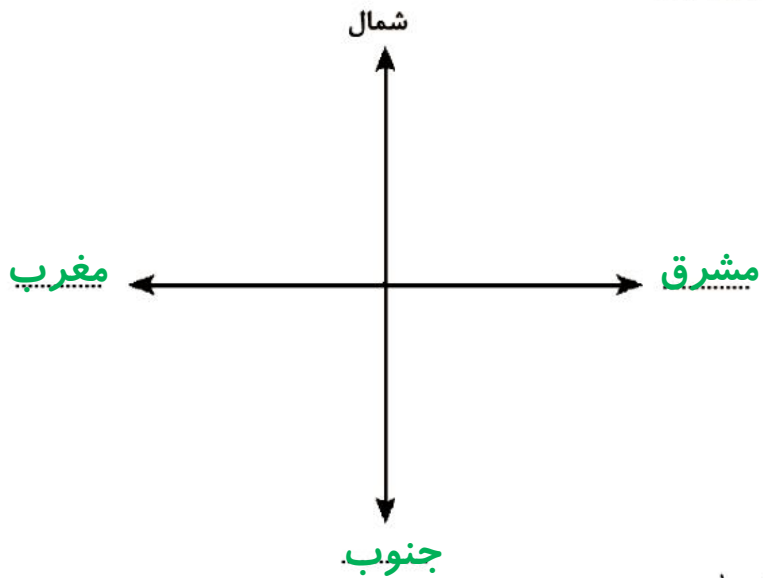
مغرب

جنوب

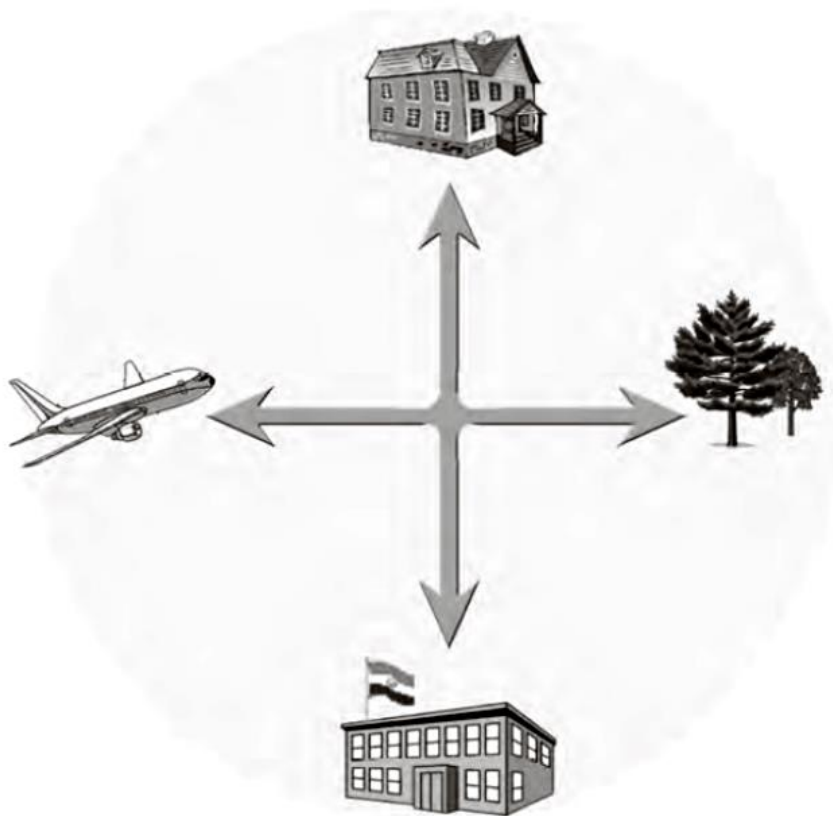
۲- جهت‌ها را بنویسید. شمال، جنوب، مغرب، مشرق
 کامیون به کدام سمت می‌رود؟ () **مغرب**
 پسر به کدام سمت نگاه می‌کند؟ () **مشرق**
 کشاورزان رو به کدام جهت ایستاده‌اند؟ () **شمال**
 گوسفندان به کدام سمت حرکت می‌کنند؟ **جنوب** **مشرق**
 ۳- کاربرگ‌های شماره‌ی (۱۸) «جهت‌های اصلی» را در کلاس کامل کنید.

کاربرگی شماره‌ی ۱۸ جهت‌های اصلی

۱- روی نقطه چین کلمه‌ی مناسب بنویسید.



۲- جهت هر یک از شکل‌ها را بنویسید.



- (شمال) خانه
- (جنوب) مدرسه
- (مشرق) باغ
- (مغرب) هواپیما