




به نام خدا


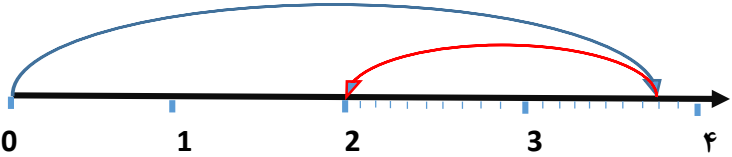
پایه ششم - ریاضی کاربرگ ۱۰ (یاد آوری ضرب و تقسیم اعشاری)

*** رسول اکرم صلی الله علیه و آله : مؤمن شوخ و بامزه است و منافق اخمو و عصبانی ***

				۱
<p>حاصل عبارت $1/5 \times 3/50$ برابر با کدام گزینه است؟</p>				
(الف) $5/25$	(ب) $50/25$	(پ) $5/75$	(ت) $5/0.75$	
<p>حاصل عبارت $2/8 \div 7$ برابر با کدام گزینه است؟</p>				۲
(الف) $0/04$	(ب) $0/040$	(پ) $0/40$	(ت) $0/004$	
<p>ضرب و تقسیم های زیر را به صورت ذهنی انجام دهید.</p>				۳
(الف) $5/5 \times 1000 =$	(ب) $14/28 \times 0/001 =$	(پ) $0/8 \times 100 =$		
(ت) $0/8 \times 0/2 =$	(ث) $2/4 \div 100 =$	(ج) $15/25 \div 0/01 =$		
(چ) $3/5 \div 1000 =$	(ح) $242/5 \div 0/001 =$			
<p>حاصل عبارت های زیر را بدست آورید.</p>				۴
(الف) $(2/3 + 3/6) \times 100 =$		(ب) $(6/7 - 1/8) \times 30 =$		
<p>حاصل تقسیم های زیر را بدست آورید و باقیمانده را مشخص کنید.</p>				۵
(الف) $3/5 \overline{) 8}$		(ب) $0/018 \overline{) 5}$		
<p>حاصل تقسیم و ضرب زیر را با استفاده از شکل بدست آورید.</p>				۶
				
(الف) $0/6 \div 2$	(ب) $0/2 \times 0/3 =$			
<p>حاصل عبارت $3/8 - 1/8$ را روی محور نشان دهید.</p>				۷
				
<p>طول و عرض یک مستطیل $1/2$ و $0/25$ است. محیط و مساحت آن را حساب کنید.</p>				۸

پاسخنامه کاربرگ ۱۰

یاد آوری ضرب و تقسیم اعشاری

۱	پاسخ گزینه ی الف ۵/۲۵
۲	پاسخ گزینه ی پ ۰/۴۰
۳	الف) 5500 ب) 0/1428 ج) 80 د) 4 ه) 0/024 و) 1525 ز) 0/0035 ح) 242500
۴	الف) $(2/3 + 3/6) \times 100 = 5/9 \times 100 = 590$ ب) $(6/7 - 1/8) \times 30 = 4/9 \times 30 = 147$
۵	حاصل تقسیم های زیر را بدست آورید و باقیمانده را مشخص کنید. الف) $3/5 \overline{) 8}$ $\underline{- 3/2} \quad 0/4$ $0/3$ ب) $0/018 \overline{) 5}$ $\underline{- 0/015} \quad 0/0036$ $0/0030$ $\underline{- 0/0030}$ $0000 \quad 0$
۶	
۷	الف) $0/6 \div 2 = 0/3$ ب) $0/2 \times 0/3 = 0/6$ حاصل عبارت ۲ می شود. 
۸	طول و عرض یک مستطیل ۱/۲ و ۰/۲۵ است. محیط و مساحت آن را حساب کنید. مساحت مستطیل = $طول \times عرض = 1/2 \times 0/25 = \frac{0}{3}$ محیط مستطیل = $(طول + عرض) \times 2 = (1/2 + 0/25) \times 2 = 2/9$