
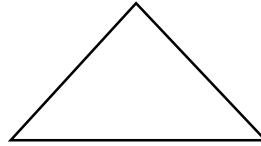



• به کمک خط کش اندازه‌ی ضلع‌ها را به صورت تقریبی پیدا کرده و بعد محیط هر شکل را به دست بیاور.



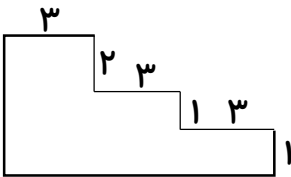
محیط =

محیط =

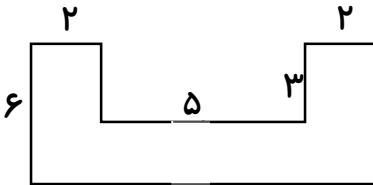
محیط =

محیط =

• ابتدا اندازه‌ی همه‌ی ضلع‌ها را پیدا کن و بعد محیط آن‌ها را به دست بیاور.



محیط =



محیط =

• سجاده‌ای به شکل مستطیل به طول ۴۰ و عرض ۲۰ سانتی متر داریم. می‌خواهیم دور این سجاده را نواردوزی کنیم. چند سانتی متر نوار لازم است؟

• با یک نخ به طول ۲۴ سانتی متر یک مربع ساخته و هر ضلع آن را اندازه‌گیری کرده‌ایم. سپس با همان تکه نخ یک مثلث با سه ضلع برابر می‌سازیم و اندازه‌ی هر سه ضلع آن را نیز پیدا می‌کنیم. کدام شکل از ضلع‌های بزرگ‌تری ساخته می‌شود؟ چرا؟

• حالا که عالی تمرینات را انجام دادی، یک سوال مانند سوالات بالا طراحی و حل کن.

