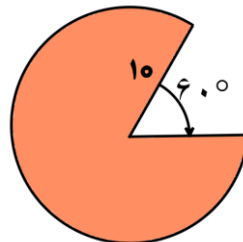
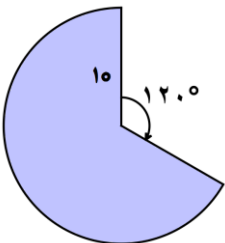
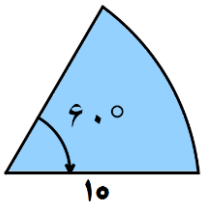
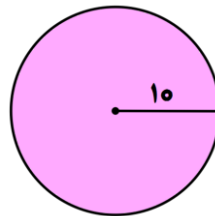
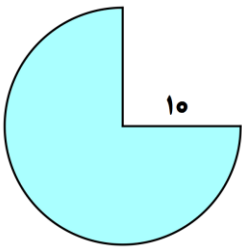
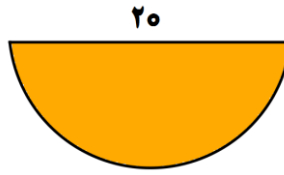
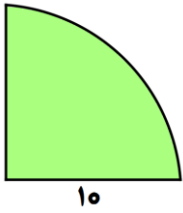


مساحت شکل های زیر را محاسبه کنید.



در شکل های زیر ابتدا روش محاسبه ی مساحت قسمت هاشور خورده را توضیح داده و سپس مساحت آن را به دست آورید. عدد پی = ۳

