

## جمع در جدول ارزش مکانی

### فعالیت



۱- حمید ۲۷۳۵ ریال در قلکش داشت. او ۲۲۳۱ ریال دیگر هم در فلک ریخت. حالا چقدر پول دارد؟ اگر پول هایش به صورت سکه‌های ۱ و ۱۰ و ۱۰۰ و ۱۰۰۰ ریالی باشند،

هـ	ص	د	ی
۲	۷	۳	۵
+۲	۲	۳	۱
۶	۹	۶	۶

چند سکه‌ی ۱ ریالی دارد؟ **۶**

چند سکه‌ی ۱۰ ریالی دارد؟ **۶**

چند سکه‌ی ۱۰۰ ریالی دارد؟ **۹**

چند سکه‌ی ۱۰۰۰ ریالی دارد؟ **۶**

۲- حمید ۶۹۶۶ ریال در قلکش دارد. او در این هفته ۱۲۲۱ ریال در فلک خود پس انداز کرده است.

هـ	ص	د	ی
۶	۹	۶	۶
+۱	۲	۲	۱
۷	۱۱	۸	۷
۸	۱	۸	۷

حالا چقدر پول دارد؟ **۸۱۸۷**

چند سکه‌ی ۱ ریالی دارد؟ **۷**

چند سکه‌ی ۱۰ ریالی دارد؟ **۸**

چند سکه‌ی ۱۰۰ ریالی دارد؟ **۱۱**

اگر حمید ۱۰ سکه‌ی ۱۰۰ ریالی را با یک سکه‌ی ۱۰۰۰ ریالی عوض کند، چند سکه‌ی ۱۰۰ ریالی برایش باقی می‌ماند؟ **۱ سکه**  
 او با یک سکه‌ی ۱۰۰۰ ریالی که در مقابل سکه‌های ۱۰۰ ریالی اش گرفته است، روی هم چند سکه‌ی ۱۰۰۰ ریالی دارد؟ **۸ سکه**

۳- جمعی را که شکل زیر نشان می‌دهد، در جدول ارزش مکانی بنویسید.  
 این ده سکه‌ی ۱۰ ریالی را با چه سکه‌ای عوض می‌کنید؟ **یک صد ریالی**

### یک صد ریالی

هـ	ص	د	ی
۱	۲	۶	۲
+۱	۱	۷	۲
۲	۴	۳	۴





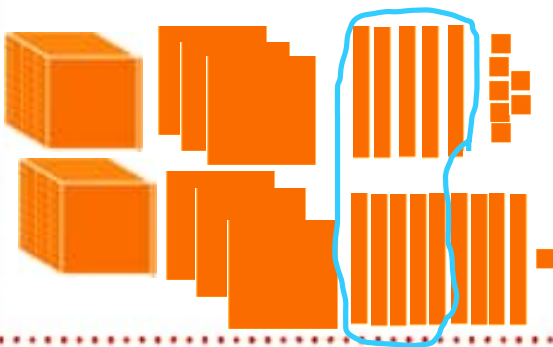
با توجه به شکل‌ها، جمع‌ها را انجام دهید یا برای جمع‌های داده شده شکل بکشید.

$$\begin{array}{r} 2333 \\ + 2244 \\ \hline 4577 \end{array}$$



$$\begin{array}{r} 1357 \\ + 1391 \\ \hline 2748 \end{array}$$

$$\begin{array}{r} 2013 \\ + 1020 \\ \hline 3033 \end{array}$$



کامل کن

محیط مستطیل را به دو صورت به دست آورید.



محیط مستطیل =  $4 + 3 + 4 + 3 = 14$


محیط مستطیل =  $(2 \times 4) + (2 \times 3) = 14$



محیط مستطیل =  $6 + 4 + 6 + 4 = 20$

محیط مستطیل =  $(2 \times 6) + (2 \times 4) = 20$

تمرین



۱- در یک باغ ۱۱۴۳ درخت پرتقال و ۱۸۵ درخت نارنگی کاشته شده است. این باغ چند درخت دارد؟

$$\begin{array}{r} 1143 \\ + 185 \\ \hline 1328 \\ + 85 \\ \hline 1413 \\ + 5 \\ \hline 1418 \end{array}$$

۱۳۲۸ درخت دارد

$$\begin{array}{r} 1700 \\ + 435 \\ \hline 2135 \\ + 35 \\ \hline 2170 \\ + 50 \\ \hline 2220 \end{array}$$

۲- هاجر ۱۷۰۰ تومان و سارا ۴۳۵۰ تومان پول دارند. پول این دو نفر روی هم چقدر است؟

۶۰۵۰ تومان است

۳- در یک شهر ۲۸۴۵ دانش آموز پسر و ۲۷۵۱ دانش آموز دختر درس می خوانند. این شهر چند دانش آموز دارد؟

۷۵۹۶ دانش آموز دارد

۴- حاصل جمع ها را به دست آورید.

$$\begin{array}{r} 3845 \\ + 3751 \\ \hline 7596 \\ + 1 \\ \hline 7597 \end{array}$$

$$\begin{array}{r} 4030 \\ + 2107 \\ \hline 6137 \\ + 7 \\ \hline 6144 \end{array}$$

$$\begin{array}{r} 2789 \\ + 1251 \\ \hline 4040 \\ + 351 \\ \hline 4391 \\ + 51 \\ \hline 4442 \\ + 1 \\ \hline 4443 \end{array}$$

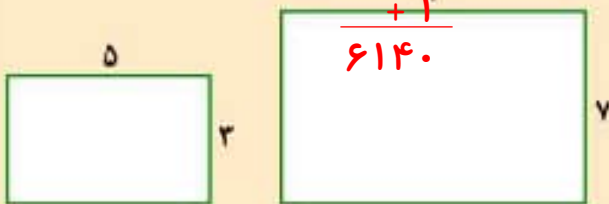
$$\begin{array}{r} 7025 \\ + 1801 \\ \hline 8826 \\ + 1 \\ \hline 8827 \end{array}$$

$$\begin{array}{r} 6002 \\ + 1899 \\ \hline 7901 \\ + 99 \\ \hline 8000 \\ + 9 \\ \hline 8009 \end{array}$$



محیط مستطیل ها را با نوشتن رابطه آن ها به دست آورید.

کامل کن



محیط مستطیل  $(2 \times 5) + (2 \times 3) = 16$   
 محیط مستطیل  $(2 \times 9) + (2 \times 7) = 32$