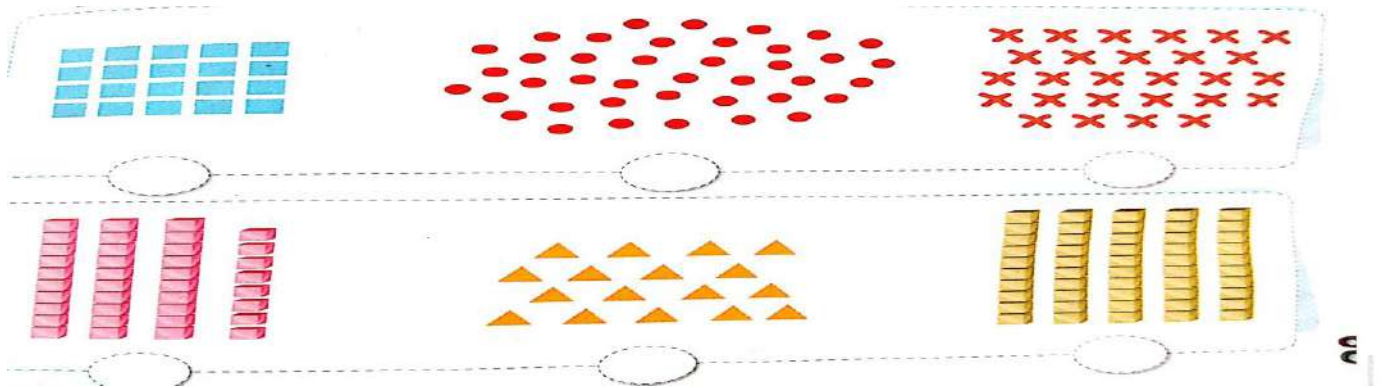
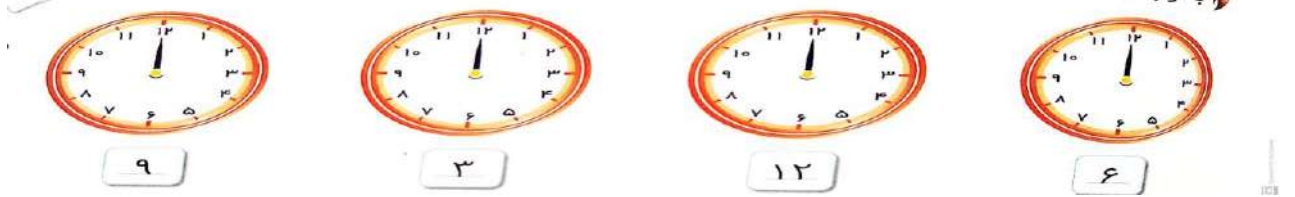


۱- بشمار و بنویس (با تیک زدن یا جدا کردن دسته ده تایی)



۲- با توجه به عدد نوشته شده زیر هر ساعت عقربه کوچک را رسم کن.



۳- نوشتن عدد هارا ادامه بده.

۳-۶-۹-.....-.....-

۲-۴-۶-.....-.....-

۱۰-۲۰-۳۰-.....-.....-

۰-۵-۱۰-.....-.....-

۴- جای خالی را کامل کن

1-2-3-4-.....-.....-

.....-.....-۵-.....-.....-

دیجیتالی.....-.....-

۵- دسته ده تایی جدا کن و جاهای خالی را پر کن



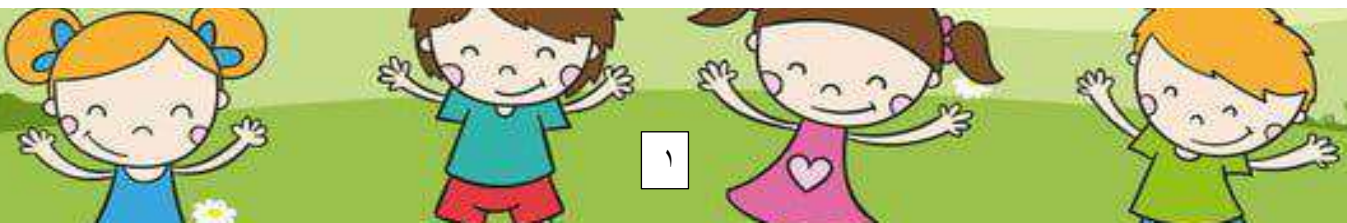
ده تایی	یکی
_____	_____


به عدد ✓  
به حروف \_\_\_\_\_



ده تایی	یکی
_____	_____

به عدد \_\_\_\_\_  
به حروف \_\_\_\_\_





ده تایی	یکی



ده تایی	یکی



۶- هر شکل چه عددی را نشان می دهد



۷- هر عدد را بخوان و با حروف بنویس

۶۶.....

۲۲.....

۳۹.....

۱۶.....

۴۲.....

۸۹.....

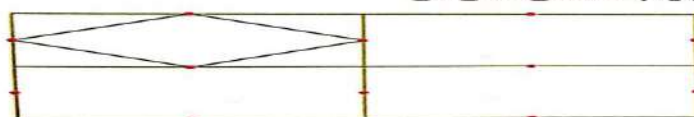
۱۳.....

۹۲.....

ده تایی	یکی	۲۸
ده تایی	یکی	
ده تایی	یکی	
ده تایی	یکی	
ده تایی	یکی	
ده تایی	یکی	

- ۸- جاهای خالی را پر کن.
- ۲۸ یعنی ده تایی و یکی.
  - ۱۹ یعنی ده تایی و یکی.
  - ۴ ده تایی و ۷ یکی می شود.
  - ۵ ده تایی و ۲ یکی می شود.
  - رقم یکان سی و نه، است.
  - رقم دهگان چهل، است.
  - رقم دهگان سی و سه، است.
  - رقم یکان پنجاه و نه، است.

سه قسمت دیگر شکل را با خط کش کامل کن.



۱۰- در هر ردیف با رقم های داده شده اعداد دو رقمی بنویسید

۱ ۵ .....-.....

۶ ۹ .....-.....

۱۱- عدد های دو رقمی بنویسید .

.....

رقم یکان ۵ و رقم دهگان ۷ باشد .

.....

رقم بکان صفر و رقم دهگان ۳ باشد

.....

رقم یکان و دهگان مثل هم باشند

۱۲- مسئله های زیر را با کمک محور حل کن.

علی .....ساله می شود

۱- علی ۸ سال دارد. ۷ سال بعد چند ساله می شود؟

مریم .....ساله بوده است

۲- مریم ۱۴ سال دارد. ۹ سال پیش او چند ساله بوده است؟

۳- سارا ۱۲ قدم از خانه دور شده بود. برگشت تا عینکش را بیاورد. ولی ۸ قدم که برگشت فهمید عینکش توی کیف است. حالا بگو چند قدم مانده بود تا به خانه اش برسد؟

سارا .....مانده بود به خانه اش برسد

۱۳- پاسخ دهید

..... بیشترین عدد یک رقمی

..... بیشترین عدد دورقمی

..... کم ترین عدد یک رقمی

..... کم ترین عدد دو رقمی

۱۴- حاصل جمع هارا با چوب خط به دست بیاورید.

$$۹+۷=.....$$

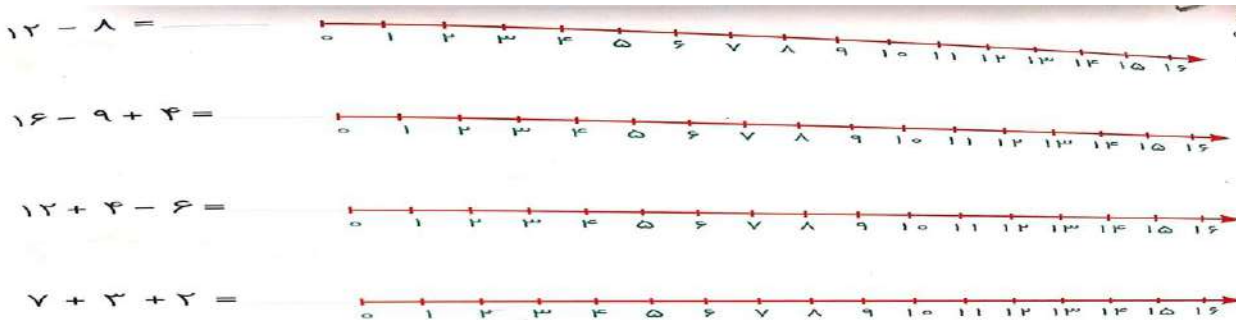
$$۴+۶+۳=.....$$

$$۶+۶+۶=.....$$

$$۵+۶+۷=.....$$



۱۵- حاصل جمع و تفریق ها را با محور یا رسم شکل به دست آورید



$8 + 9 = \dots\dots\dots$

$13 - 6 = \dots\dots\dots,$

۱۶- حاصل جمع و تفریق های زیر را به دست آورید.

$5 + 10 + 10 + 10 + 20 = \dots\dots\dots$

$20 - 5 - 5 = \dots\dots\dots$

$7 + 3 + 5 + 5 + 10 + 2 = \dots\dots\dots$

$20 + 10 - 5 = \dots\dots\dots$

$5 + 10 - 3 = \dots\dots\dots$

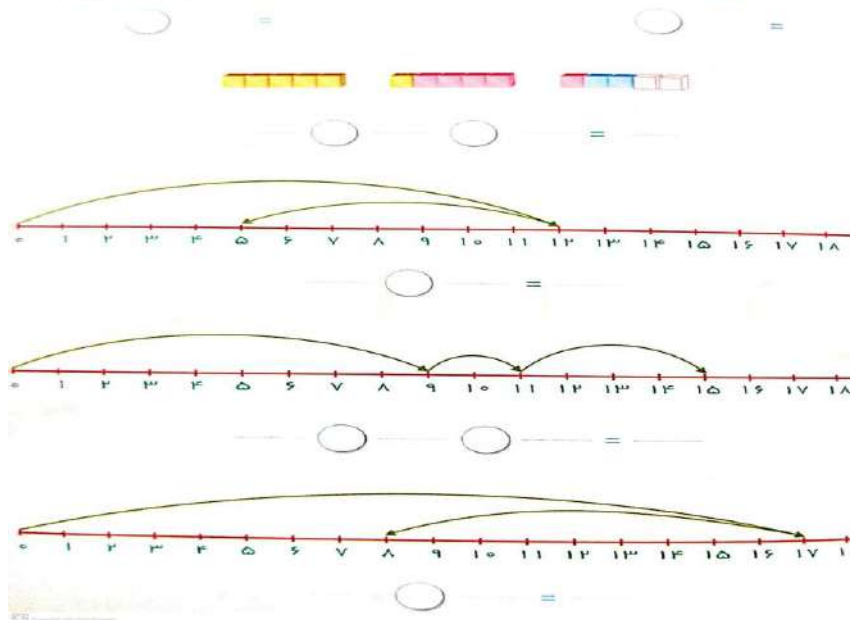
$30 + 20 + 10 + 5 + 2 = \dots\dots\dots$

$6 + 4 + 20 + 3 + 2 = \dots\dots\dots$





$20 + 20 + 10 - 10 = \dots\dots\dots$



۱۷- برای شکل ها و محورهای زیر جمع یا تفریق بنویس



۱۸- با توجه به ساعت جمله های زیر را کامل کن.

 <p>ساعت از ..... گذشته است.</p>	 <p>ساعت به ..... مانده است. ✓</p>
 <p>ساعت از ..... گذشته است.</p>	 <p>ساعت به ..... مانده است.</p>

۱۹- جاهای خالی عدد مناسب بنویس.

$7 + \dots = 9$

$6 - 3 = \dots$

$20 + \dots = 25$

$8 + \dots = 18$



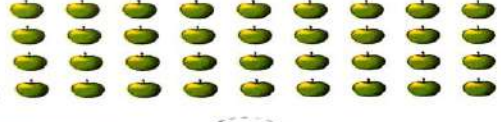
$\dots + 7 = 18$

$15 - \dots = 10$

۲۰- به سوال های زیر پاسخ بده

- ۱- در شمارش ۳ تا ۳ تا بعد از ۱۵ چه عددی است؟.....
- ۲- در شمارش ۱۰ تا ۱۰ تا قبل از ۳۵ چه عددی است؟.....
- ۳- در شمارش ۹ تا ۹ تا بعد از ۲۷ چه عددی است؟.....

۲۱- مانند نمونه با توجه به تعداد نوشته شده دسته بندی کن و تعداد هر شکل را بنویس.

<p>دسته های ۳ تایی</p> 	<p>دسته های ۱۰ تایی</p> 
<p>دسته های ۷ تایی</p> 	<p>دسته های ۴ تایی</p> 