


۱. هر زنبور را به گل خودش وصل کن.



۲. جاهای خالی را کامل کن.

الف) ۱ دسته ی ده تایی به اضافه ی ۱ دسته ی ده تایی می شود دسته ی ده تایی : $10 + 10 = \dots\dots\dots$

ب) ۵ دسته ی ده تایی منهای ۴ دسته ی ده تایی می شود دسته ی ده تایی : $50 - 40 = \dots\dots\dots$

۳. جدول های جمع و تفریق زیر را کامل کن.

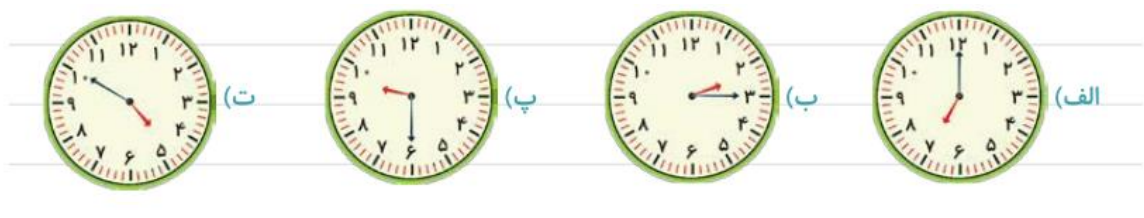
$-$	۸	۹
۱۶		
۱۷		
۱۸		

$+$	۹	۸
۹		
۸		
۷		

۴. همه ی اعداد دو رقمی ای را که یکان آن ۶ و ۵ و رقم دهگان آن ۳ و ۴ است را بنویس.



۵. هر ساعت چه عددی را نشان می دهد.





.....

.....

.....

حاصل جمع و تفریق های زیر را حساب کن.

85	49	97	75	46
$+12$	$+40$	-52	-23	$+32$
-----	-----	-----	-----	-----
.....
$+$	$+$	$-$	$-$	$+$
-----	-----	-----	-----	-----
.....

۶. جواب جمع و تفریق های زیر را به صورت تقریبی به دست بیاور.



$52 \rightarrow$	$60 \rightarrow$	$26 \rightarrow$	$94 \rightarrow$
$+38 \rightarrow +$	$-45 \rightarrow -$	$+25 \rightarrow +$	$-27 \rightarrow -$
-----	-----	-----	-----




۷. در روز ۲۲ بهمن ، محمد ۱۲ لیوان و رضا ۲۸ لیوان شربت در ایستگاه صلواتی به مردم دادند.
آن ها روی هم چند لیوان شربت به مردم دادند؟

۸. روی یک درخت ۴۸ پرنده نشسته بودند . ۱۳ تا از آن ها پریدند. حالا روی این درخت چند پرنده نشسته اند؟

نظر ولی:

نظر آموزگار:

ردیف	سوالات																																
۱	<p>با توجه به شکل حاصل جمع و تفریق ها را پیدا کن.</p> 																																
۲	<p>حاصل جمع و تفریق های زیر را به دست بیاور.</p> <p> $۵۰+۲۰=$ $۳۰+۴۰=$ $۷۰-۲۰=$ $۲۰-۱۰=$ </p>																																
۳	<p>جاهای خالی را کامل کن سپس عبارات ریاضی مربوط به جملات را بنویس.</p> <p>۳ دسته ی ده تایی به اضافه ی ۴ دسته ی ده تایی می شود دسته ی ده تایی.</p> <p>.....</p> <p>۹ دسته ی ده تایی منهای ۶ دسته ی ده تایی می شود دسته ی ده تایی.</p> <p>.....</p>																																
۴	<p>جدول های جمع و تفریق زیر را کامل کن.</p> <table border="1" data-bbox="199 1220 558 1444"> <tr><td>-</td><td>۴</td><td>۵</td><td>۶</td></tr> <tr><td>۱۴</td><td></td><td></td><td></td></tr> <tr><td>۱۹</td><td></td><td></td><td></td></tr> <tr><td>۲۵</td><td></td><td></td><td></td></tr> </table> <table border="1" data-bbox="973 1220 1308 1444"> <tr><td>+</td><td>۴</td><td>۵</td><td>۶</td></tr> <tr><td>۲</td><td></td><td></td><td></td></tr> <tr><td>۳</td><td></td><td></td><td></td></tr> <tr><td>۴</td><td></td><td></td><td></td></tr> </table>	-	۴	۵	۶	۱۴				۱۹				۲۵				+	۴	۵	۶	۲				۳				۴			
-	۴	۵	۶																														
۱۴																																	
۱۹																																	
۲۵																																	
+	۴	۵	۶																														
۲																																	
۳																																	
۴																																	
۵	<p>همه ی اعداد دو رقمی را بنویسید که رقم یکان آن ها ۶ و ۸ و رقم دهگان آن ها ۱ و ۹ باشد.</p> 																																

<p>۸۵ +۱۲</p> <hr/> <p>.....</p> <p>+</p> <hr/> <p>.....</p>	<p>۴۹ +۴۰</p> <hr/> <p>.....</p> <p>+</p> <hr/> <p>.....</p>	<p>۹۷ -۵۲</p> <hr/> <p>.....</p> <p>-</p> <hr/> <p>.....</p>	<p>۷۵ -۲۳</p> <hr/> <p>.....</p> <p>-</p> <hr/> <p>.....</p>	<p>۶</p> <p>حاصل جمع و تفریق های زیر را به دست بیاور.</p>
 <p>ساعت و دقیقه است</p>	 <p>ساعت و دقیقه است</p>	 <p>ساعت و دقیقه است</p>	<p>۷</p> <p>ساعت چند است؟</p>	
<p>۴۴ →</p> <p>- ۱۵ → -</p> <hr/> <p>.....</p>		<p>۵۵ →</p> <p>+ ۳۲ → +</p> <hr/> <p>.....</p>		<p>۸</p> <p>حاصل جمع و تفریق های زیر را به صورت تقریبی به دست بیاور.</p>

ردیف	انتظارات معلم	خیلی خوب	خوب	قابل قبول	نیاز به تلاش بیشتر
۱	با توجه به شکل حاصل جمع و تفریق ها را پیدا می کند.				
۲	حاصل جمع و تفریق های اعداد رند دو رقمی را به دست می آورد.				
۳	جمع و تفریق های فارسی اعداد دو رقمی رند را به ریاضی تبدیل می کند.				
۴	جدول های جمع و تفریق را کامل می کند.				
۵	به کمک رقم های یکان و دهگان معینی ، به روش شاخه ای و به کمک جدول اعداد دو رقمی می سازد.				
۶	حاصل جمع و تفریق ها را با راه حل به دست می آورد.				
۷	ساعت را با دقیقه می خواند.				
۸	حاصل جمع و تفریق های اعداد دو رقمی را به صورت تقریبی به دست می آورد.				

خودسنجی دانش آموز:

بازخورد آموزگار/تاریخ و امضا:

نظر ولی: