



تم ۱۰

در این تم یاد می‌گیریم:

- ★ مفاهیم کنار، پشت، روبه‌رو و ...
- ★ شمارش اعداد
- ★ معرفی نماد اعداد ۶ و ۷
- ★ مقایسه‌ی اندازه‌گیری در طول

دانش آموز

فرزندم؛ به تصویر تم ۱۰ با دقت نگاه کن و هر چیزی را که در تصویر می‌بینی، بگو.

چند دانش آموز، پشت به شما قرار دارند؟

چند دانش آموز، رو به شما قرار دارند؟

والدین

از فرزندان چند سوال در رابطه با مفاهیم پشت، روبه‌رو، شمارش و ... پرسید.

دانش آموز

- تعداد سنگ‌های سمت چپ تم را بشمار و بگو.

- تعداد پرنده‌ها و درخت‌ها را با هم بشمار و بگو.





دوقلوها دو گلدان با تعدادی گل دارند.



یکی از دوقلوها، تعداد گل‌های گلدان را با انگشتان دست نشان داد.



حالا انگشتان یک دست را به دست دیگر انتقال داد.



خواهر دیگر هم به تعداد انگشتان انتقال داده شده، از شاخه‌های گل گلدان سمت راست، به گلدان سمت چپ انتقال داد.



و تعداد گل‌ها را به صورت چوب‌خط نشان داد.





نکته

برای نمایش چوب خط عددهای بیشتر از ۵، عدد موردنظر را به صورت ترکیبی از ۵ و عدد دیگر نمایش می‌دهیم. برای مثال، عدد شش را به صورت ۵ و ۱ نمایش می‌دهیم.



دانش آموز

فرزندم تعداد دکمه‌های هر بلوز را با انگشتان دستت نشان بده و بعد از انتقال انگشتان، با چوب خط نمایش بده.



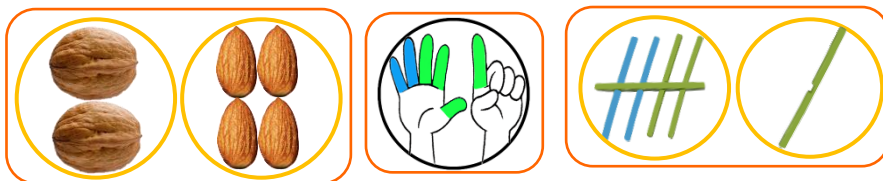
ارجاع به کتاب

فرزندم صفحه‌های ۶۵ و ۶۶ کتاب ریاضی را انجام بده.


یکی از دوقلوها ۳ قاشق و ۳ چنگال دارد. او با رنگ کردن تصویر انگشتان دست، تعداد قاشق‌ها و چنگال‌ها را به دست آورده و با چوب‌خط نشان می‌دهد.



خواهرش، ۲ گردو و ۴ بادام داشت. او نیز با رنگ کردن تصویر انگشتان دست، تعداد آن‌ها را به دست آورده و با چوب‌خط نشان می‌دهد.



فرزندم؛ عدد شش را به صورت روبه‌رو و با توجه به جهت فلش می‌نویسیم:




ادامه بده.





فرزندم در هر دسته، به شکل‌ها اضافه کن تا تعداد آن‌ها با عدد شش برابر شود.

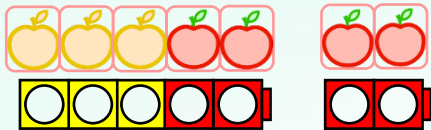


ارجاع به کتاب




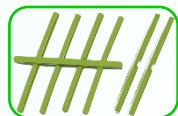
فرزندم صفحه‌های ۶۷ و ۶۸ کتاب ریاضی را انجام بده.

برادر دوقلوها ۳ سیب زرد و ۴ سیب قرمز دارد. دوقلوها با چینه‌های خود، تعداد سیب‌ها را به دست آوردند.



سپس با چوب‌خط هم تعداد سیب‌ها را نشان دادند.

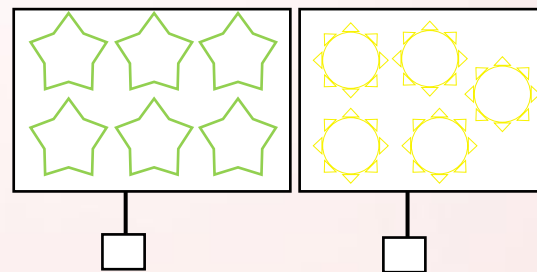
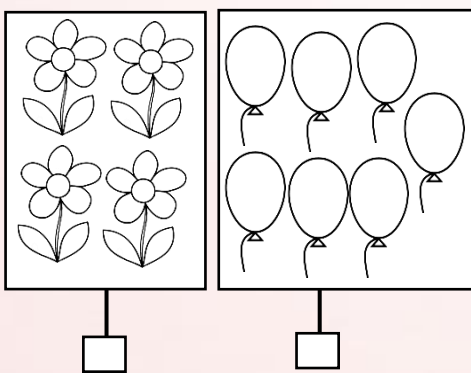
فرزندم، تعداد سیب‌ها **هفت** تا بود. عدد **۷** را به این صورت با توجه به فلش، نشان می‌دهیم:



ادامه بده.



عدد مربوط به هر دسته را بنویس و دسته‌ای که شکل‌های بیشتری دارد را رنگ بزن.



فرزندم صفحه‌ی ۶۹ و ۷۰ کتاب ریاضی را انجام بده.