


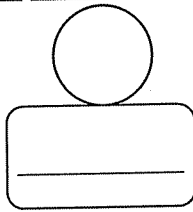
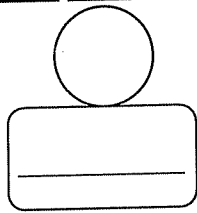
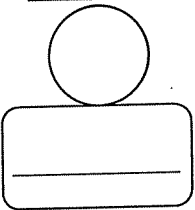
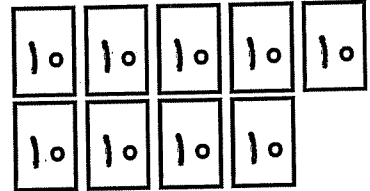
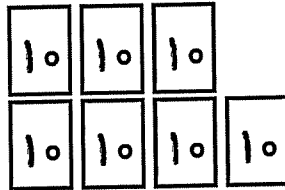
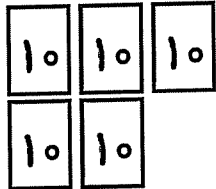
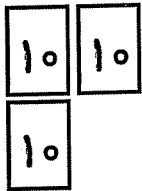
به نام خدا

نام و نام خانوادگی:

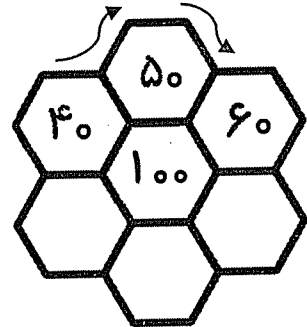
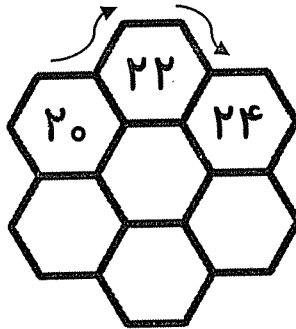
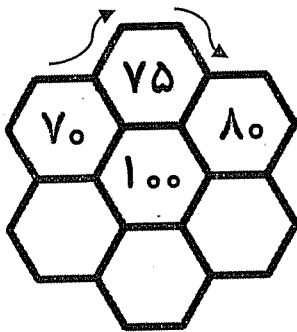
تاریخ:

تم ۲۵

به هر قسمت یک بسته ده تایی اضافه کن و عدد را با رقم و حروف بنویس.



با توجه به الگوی شمارش، در جاهای خالی عدد مناسب بنویس.



مسئله ها را با هر روشی که دوست داری حل کن.

در جشن تولد امید ۱۸ نفر از همکلاسی هایش دعوت بودند.

۹ نفر از آن ها نیامدند.

چند نفر آمده بودند؟ ..... نفر آمده بودند.


میوه فروشی ۲۵ صندوق میوه داشت.

او دیروز صبح ۵ صندوق و عصر ۱۰ صندوق از میوه هایش را فروخت.

چند صندوق میوه مانده است ..... صندوق میوه مانده است.

نظر آموزگار:










به نام خدا

تاریخ:

تم ۲۵

نام و نام خانوادگی:


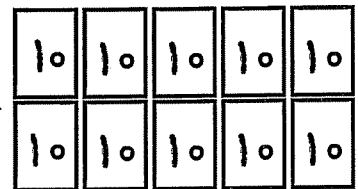
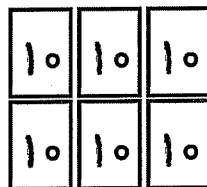
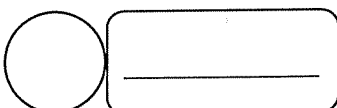
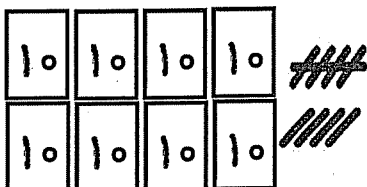
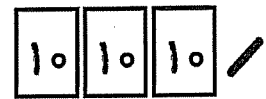
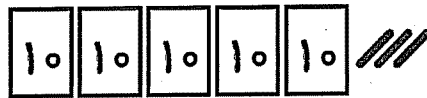
در هر قسمت، نوشتن عددها را ادامه بده.



از پنج تا صد را ۵ تا ۵ تا بنویس.

A large rectangular box with a horizontal line across the middle, intended for writing numbers from 5 to 100 in increments of 5.


با توجه به شکل، عدد مناسب را با رقم و حروف بنویس.



A large rectangular box for writing the teacher's name.

نظر آموزگار:





به نام خدا

تاریخ:

تم ۲۵

نام و نام خانوادگی:

اگر اطلاعات مسئله کافی است، آن را حل کن.

بستنی فروشی ۲۰ عدد بستنی داشت.

۱۰ تا از بستنی هایش را فروخت.

او حالا چند بستنی دارد؟

آقای اسدی ۳ کندوی زنبور عسل دارد. دیروز وقتی در کندوها را باز کرد، تعدادی از زنبورها بیرون رفتند.

چند زنبور در کندو مانده است؟

مهدی ۲۵ چینه ی آبی روی میز گذاشت.

خواهرش هم ۱۵ چینه ی سبز گذاشت.

چند چینه روی میز است؟

در یک اتاق ۱۷ صندلی برای بازی بچه ها بود.

آموزگار ۳ تا از صندلی های قرمز را برداشت و به جای آن ۳ صندلی سفید گذاشت.

حالا چند صندلی در اتاق است؟

کتاب داستان آزاده ۶۴ صفحه دارد.

او دیروز و امروز تعداد زیادی از صفحاتش را خوانده است.

چند صفحه دیگر مانده است؟

نظر آموزگار:



